

ΓΕΩΜΕΤΡΙΚΑ ΣΤΕΡΕΑ (II)

(κύβος, σφαίρα, κύλινδρος, πυραμίδα, κώνος, ορθογώνιο παραλληλεπίπεδο)

Δραστηριότητα 1: Άσκηση αντιστοίχισης

Βαθμός δυσκολίας: 1-Αρκετά Εύκολο

Οδηγίες: Ενώνω τα γεωμετρικά στερεά που μοιάζουν μεταξύ τους.

Δραστηριότητα 2: Άσκηση αντιστοίχισης

Βαθμός δυσκολίας: 2-Εύκολο

Οδηγίες: Ενώνω τα γεωμετρικά στερεά με τα ονόματά τους.

Δραστηριότητα 3: Σταυρόλεξο γεωμετρικών εννοιών

Βαθμός δυσκολίας: 3-Λίγο Δύσκολο

Οδηγίες: Βρίσκω τα ονόματα των γεωμετρικών στερεών και συμπληρώνω το σταυρόλεξο.

(Ερμηνεία βαθμών δυσκολίας: 0-Πολύ Εύκολο, 1-Αρκετά Εύκολο, 2-Εύκολο, 3-Λίγο Δύσκολο, 4-Δύσκολο)

Επιμέλεια: Λ. Βλαχάκη - Μαθηματικός

ΔΡΑΣΤΗΡΙΟΤΗΤΑ 1

Οδηγίες: Ενώνω τα γεωμετρικά στερεά που μοιάζουν μεταξύ τους.




•

•



•

•



•

•



•

•



•

•



•

•









Επιμέλεια: Λ. Βλαχάκη - Μαθηματικός

*Απαγορεύεται η οποιασδήποτε μορφής αναπαραγωγή του υλικού χωρίς αναφορά στα στοιχεία της δημιουργού του.

ΔΡΑΣΤΗΡΙΟΤΗΤΑ 2


Οδηγίες: Ενώνω τα γεωμετρικά στερεά με τα ονόματά τους.

	•	•	Κώνος
	•	•	Κύλινδρος
	•	•	Ορθογώνιο
	•	•	Κύκλος
	•	•	Κύβος
	•	•	Σφαίρα

Επιμέλεια: Λ. Βλαχάκη - Μαθηματικός

*Απαγορεύεται η οποιασδήποτε μορφής αναπαραγωγή του υλικού χωρίς αναφορά στα στοιχεία της δημιουργού του.

ΔΡΑΣΤΗΡΙΟΤΗΤΑ 3




Κάθετα:

1. Το όνομα του ροζ γεωμετρικού στερεού.
2. Το όνομα του μπλε γεωμετρικού στερεού.

Οριζόντια:

2. Το όνομα του πράσινου γεωμετρικού στερεού.
3. Το όνομα του γαλάζιου γεωμετρικού στερεού.
4. Το όνομα του κόκκινου γεωμετρικού στερεού.
5. Το όνομα του πορτοκαλί γεωμετρικού στερεού.



Επιμέλεια: Λ. Βλαχάκη - Μαθηματικός

*Απαγορεύεται η οποιασδήποτε μορφής αναπαραγωγή του υλικού χωρίς αναφορά στα στοιχεία της δημιουργού του.