

ΤΑ ΕΥΡΩ – ΑΚΕΡΑΙΑ ΠΟΣΑ (IV) ΣΥΝΑΛΛΑΓΕΣ ΜΕ ΧΡΗΜΑΤΑ

«Επανάληψις, μήτηρ πάσης μαθήσεως...»

Πρόβλημα 1: Συναλλαγές με χρήματα

Βαθμός δυσκολίας: 2-Εύκολο

Οδηγίες: Ο μαθητής απαντάει στις ερωτήσεις του προβλήματος αφού πρώτα συμβουλευτεί τον «Τιμοκατάλογο» του κυλικείου.

Πρόβλημα 2: Συναλλαγές με χρήματα

Βαθμός δυσκολίας: 2-Εύκολο

Οδηγίες: Ο μαθητής απαντάει στις ερωτήσεις του προβλήματος αφού πρώτα συμβουλευτεί τον «Τιμοκατάλογο» του κυλικείου.

Πρόβλημα 3: Συναλλαγές με χρήματα

Βαθμός δυσκολίας: 3-Λίγο Δύσκολο

Οδηγίες: Ο μαθητής απαντάει στις ερωτήσεις του προβλήματος αφού πρώτα συμβουλευτεί τον «Τιμοκατάλογο» του κυλικείου.

Πρόβλημα 4: Συναλλαγές με χρήματα

Βαθμός δυσκολίας: 3-Λίγο Δύσκολο

Οδηγίες: Ο μαθητής απαντάει στις ερωτήσεις του προβλήματος αφού πρώτα συμβουλευτεί τον «Τιμοκατάλογο» του κυλικείου.

Πρόβλημα 5: Συναλλαγές με χρήματα

Βαθμός δυσκολίας: 4-Δύσκολο

Οδηγίες: Ο μαθητής απαντάει στις ερωτήσεις του προβλήματος αφού πρώτα συμβουλευτεί τον «Τιμοκατάλογο» του κυλικείου.

(Ερμηνεία βαθμών δυσκολίας: 0-Πολύ Εύκολο, 1-Αρκετά Εύκολο, 2-Εύκολο, 3-Λίγο Δύσκολο, 4-Δύσκολο)

Παρατήρηση: Το εικονίδιο















χρησιμοποιείται για να δείξει ότι δεν παίρνουμε

ρέστα (ρέστα=0€).

Επιμέλεια: Λ. Βλαχάκη - Μαθηματικός


*Απαγορεύεται η οποιασδήποτε μορφής αναπαραγωγή του υλικού χωρίς αναφορά στα στοιχεία της δημιουργού.


ΤΙΜΟΚΑΤΑΛΟΓΟΣ		
Τοστ (Γαλοπούλα – Τυρί)		1 € 
Τυρόπιτα Κουρού (Φέτα – Ανθότυρο)		1 € 
Μαλακά Cookies Σοκολάτας (Λαδιού 100gr)		1 € 
Χυμός Πορτοκάλι		0,50 € 
Χυμός Ανάμεικτος		0,50 € 
Νερό		0,40 € 

Επιμέλεια: Λ. Βλαχάκη - Μαθηματικός

*Απαγορεύεται η οποιασδήποτε μορφής αναπαραγωγή του υλικού χωρίς αναφορά στα στοιχεία της δημιουργού.

Πρόβλημα 1

Η Μαρία θέλει να αγοράσει από το κυλικείο του σχολείου **1 cookies** .


Συμβουλέψου τον τιμοκατάλογο του κυλικείου  και απάντησε στις παρακάτω ερωτήσεις.

A. Πόσα χρήματα πρέπει να πληρώσει η Μαρία;

α) Κύκλωσε τη σωστή απάντηση:



β) Γράψε την απάντησή σου:

B. Αν η Μαρία δώσει στον υπάλληλο του κυλικείου **1 ευρώ**  πόσα χρήματα πρέπει να πάρει ρέστα;

α) Κύκλωσε τη σωστή απάντηση:



β) Γράψε την απάντησή σου:

Επιμέλεια: Λ. Βλαχάκη - Μαθηματικός

*Απαγορεύεται η οποιασδήποτε μορφής αναπαραγωγή του υλικού χωρίς αναφορά στα στοιχεία της δημιουργού.

Πρόβλημα 2

Η Μαρία θέλει να αγοράσει από το κυλικείο του σχολείου **1 τυρόπιτα**



Συμβουλέψου τον τιμοκατάλογο του κυλικείου

Ποσότητα	Τυρόπιτα	Καφέ	Ποτό	Παξιμάδι
1	0,50 €	0,20 €	0,10 €	0,10 €
2	1,00 €	0,40 €	0,20 €	0,20 €
3	1,50 €	0,60 €	0,30 €	0,30 €
4	2,00 €	0,80 €	0,40 €	0,40 €
5	2,50 €	1,00 €	0,50 €	0,50 €

και απάντησε στις

παρακάτω ερωτήσεις.

A. Πόσα χρήματα πρέπει να πληρώσει η Μαρία;

α) Κύκλωσε τη σωστή απάντηση:



β) Γράψε την απάντησή σου:

B. Αν η Μαρία δώσει στον υπάλληλο του κυλικείου **2 ευρώ**



πόσα

χρήματα πρέπει να πάρει ρέστα;

α) Κύκλωσε τη σωστή απάντηση:





β) Γράψε την απάντησή σου:

Επιμέλεια: Λ. Βλαχάκη - Μαθηματικός

*Απαγορεύεται η οποιασδήποτε μορφής αναπαραγωγή του υλικού χωρίς αναφορά στα στοιχεία της δημιουργού.

Πρόβλημα 3

Η Μαρία θέλει να αγοράσει από το κυλικείο του σχολείου **1 τόστ**  .


Συμβουλέψου τον τιμοκατάλογο του κυλικείου  και απάντησε στις παρακάτω ερωτήσεις.

A. Πόσα χρήματα πρέπει να πληρώσει η Μαρία;

α) Κύκλωσε τη σωστή απάντηση:



β) Γράψε την απάντησή σου:

B. Αν η Μαρία δώσει στον υπάλληλο του κυλικείου **5 ευρώ**  πόσα χρήματα πρέπει να πάρει ρέστα;

α) Κύκλωσε τη σωστή απάντηση:



β) Γράψε την απάντησή σου:

Επιμέλεια: Λ. Βλαχάκη - Μαθηματικός

*Απαγορεύεται η οποιασδήποτε μορφής αναπαραγωγή του υλικού χωρίς αναφορά στα στοιχεία της δημιουργού.

Πρόβλημα 5

Η Μαρία θέλει να αγοράσει από το κυλικείο του σχολείου **1 τυρόπιτα**



Συμβουλέψου τον τιμοκατάλογο του κυλικείου

Ποσότητα	Τυρόπιτα	Καλαμάκι	Πορτοκάλι	Αποξηραμένο φρούτο	Μακαρόνια	Ρύζι	Μακαρόνια	Μακαρόνια	Μακαρόνια
1	1	1	1	1	1	1	1	1	1

και απάντησε στις παρακάτω ερωτήσεις.

A. Πόσα χρήματα πρέπει να πληρώσει η Μαρία;

α) Κύκλωσε τη σωστή απάντηση:



β) Γράψε την απάντησή σου:

B. Αν η Μαρία δώσει στον υπάλληλο του κυλικείου **20 ευρώ**



πόσα χρήματα πρέπει να πάρει ρέστα;

α) Κύκλωσε τη σωστή απάντηση:



β) Γράψε την απάντησή σου:

Επιμέλεια: Λ. Βλαχάκη - Μαθηματικός

*Απαγορεύεται η οποιασδήποτε μορφής αναπαραγωγή του υλικού χωρίς αναφορά στα στοιχεία της δημιουργού.