

## ΤΑ ΕΥΡΩ – ΑΚΕΡΑΙΑ ΠΟΣΑ (ΙΙΙ) ΣΥΝΑΛΛΑΓΕΣ ΜΕ ΧΡΗΜΑΤΑ

### Πρόβλημα 1: Συναλλαγές με χρήματα

**Βαθμός δυσκολίας:** 2-Εύκολο

**Οδηγίες:** Ο μαθητής απαντάει στις ερωτήσεις του προβλήματος αφού πρώτα συμβουλευτεί τον «Τιμοκατάλογο» του κυλικείου.

### Πρόβλημα 2: Συναλλαγές με χρήματα

**Βαθμός δυσκολίας:** 2-Εύκολο

**Οδηγίες:** Ο μαθητής απαντάει στις ερωτήσεις του προβλήματος αφού πρώτα συμβουλευτεί τον «Τιμοκατάλογο» του κυλικείου.

### Πρόβλημα 3: Συναλλαγές με χρήματα

**Βαθμός δυσκολίας:** 3-Λίγο Δύσκολο

**Οδηγίες:** Ο μαθητής απαντάει στις ερωτήσεις του προβλήματος αφού πρώτα συμβουλευτεί τον «Τιμοκατάλογο» του κυλικείου.

### Πρόβλημα 4: Συναλλαγές με χρήματα

**Βαθμός δυσκολίας:** 3-Λίγο Δύσκολο

**Οδηγίες:** Ο μαθητής απαντάει στις ερωτήσεις του προβλήματος αφού πρώτα συμβουλευτεί τον «Τιμοκατάλογο» του κυλικείου.













(Ερμηνεία βαθμών δυσκολίας: 0-Πολύ Εύκολο, 1-Αρκετά Εύκολο, 2-Εύκολο, 3-Λίγο Δύσκολο, 4-Δύσκολο)

**Παρατήρηση:** Το εικονίδιο



χρησιμοποιείται για να δείξει ότι δεν παίρνουμε ρέστα (ρέστα=0€).

Επιμέλεια: Λ. Βλαχάκη - Μαθηματικός

<b>ΤΙΜΟΚΑΤΑΛΟΓΟΣ</b>		
<b>Τοστ (Γαλοπούλα – Τυρί)</b>		<b>1 €</b> 
<b>Τυρόπιτα Κουρού (Φέτα – Ανθότυρο)</b>		<b>1 €</b> 
<b>Μαλακά Cookies Σοκολάτας (Λαδιού 100gr)</b>		<b>1 €</b> 
<b>Χυμός Πορτοκάλι</b>		<b>0,50 €</b> 
<b>Χυμός Ανάμεικτος</b>		<b>0,50 €</b> 
<b>Νερό</b>		<b>0,40 €</b> 

**Επιμέλεια: Λ. Βλαχάκη - Μαθηματικός**

\*Απαγορεύεται η οποιασδήποτε μορφής αναπαραγωγή του υλικού χωρίς αναφορά στα στοιχεία της δημιουργού.

## Πρόβλημα 1

Η Μαρία θέλει να αγοράσει από το κυλικείο του σχολείου **1 τόστ**



Συμβουλέψου τον τιμοκατάλογο του κυλικείου

Ποτό		
Ποτό		
Ποτό		
Ποτό		
Ποτό		
Ποτό		
Ποτό		
Ποτό		
Ποτό		
Ποτό		

και απάντησε στις παρακάτω ερωτήσεις.

A. Πόσα χρήματα πρέπει να πληρώσει η Μαρία;

α) Κύκλωσε τη σωστή απάντηση:



β) Γράψε την απάντησή σου: .....

B. Αν η Μαρία δώσει στον υπάλληλο του κυλικείου **1 ευρώ**



πόσα χρήματα πρέπει να πάρει ρέστα;

α) Κύκλωσε τη σωστή απάντηση:



β) Γράψε την απάντησή σου: .....

**Επιμέλεια: Λ. Βλαχάκη - Μαθηματικός**

\*Απαγορεύεται η οποιασδήποτε μορφής αναπαραγωγή του υλικού χωρίς αναφορά στα στοιχεία της δημιουργού.

## Πρόβλημα 2

Η Μαρία θέλει να αγοράσει από το κυλικείο του σχολείου **1 Cookies**



Συμβουλέψου τον τιμοκατάλογο του κυλικείου

Ποσότητα	Τιμή
1 Cookie	0,20 €
2 Cookies	0,40 €
3 Cookies	0,60 €
4 Cookies	0,80 €
5 Cookies	1,00 €
6 Cookies	1,20 €
7 Cookies	1,40 €
8 Cookies	1,60 €
9 Cookies	1,80 €
10 Cookies	2,00 €

και απάντησε στις

παρακάτω ερωτήσεις.

A. Πόσα χρήματα πρέπει να πληρώσει η Μαρία;

α) Κύκλωσε τη σωστή απάντηση:



β) Γράψε την απάντησή σου: .....

B. Αν η Μαρία δώσει στον υπάλληλο του κυλικείου **2 ευρώ**



πόσα

χρήματα πρέπει να πάρει ρέστα;

α) Κύκλωσε τη σωστή απάντηση:



β) Γράψε την απάντησή σου: .....

**Επιμέλεια: Λ. Βλαχάκη - Μαθηματικός**

\*Απαγορεύεται η οποιασδήποτε μορφής αναπαραγωγή του υλικού χωρίς αναφορά στα στοιχεία της δημιουργού.

### Πρόβλημα 3

Η Μαρία θέλει να αγοράσει από το κυλικείο του σχολείου **1 τυρόπιτα**



Συμβουλέψου τον τιμοκατάλογο του κυλικείου

Ποσότητα	Τυρόπιτα	Κοτόπιτα	Σταφύλια	Αποξηραμένα φρούτα	Μακαρόνια	Ρύζι	Πατάκια	Ποτό
1	0,50	0,50	0,50	0,50	0,50	0,50	0,50	0,50
2	1,00	1,00	1,00	1,00	1,00	1,00	1,00	1,00
3	1,50	1,50	1,50	1,50	1,50	1,50	1,50	1,50
4	2,00	2,00	2,00	2,00	2,00	2,00	2,00	2,00
5	2,50	2,50	2,50	2,50	2,50	2,50	2,50	2,50

και απάντησε στις παρακάτω ερωτήσεις.

A. Πόσα χρήματα πρέπει να πληρώσει η Μαρία;

α) Κύκλωσε τη σωστή απάντηση:



β) Γράψε την απάντησή σου: .....

B. Αν η Μαρία δώσει στον υπάλληλο του κυλικείου **5 ευρώ**



πόσα χρήματα πρέπει να πάρει ρέστα;

α) Κύκλωσε τη σωστή απάντηση:



β) Γράψε την απάντησή σου: .....

Επιμέλεια: **Λ. Βλαχάκη - Μαθηματικός**

\*Απαγορεύεται η οποιασδήποτε μορφής αναπαραγωγή του υλικού χωρίς αναφορά στα στοιχεία της δημιουργού.

## Πρόβλημα 4

Η Μαρία θέλει να αγοράσει από το κυλικείο του σχολείου **1 τόστ**



Συμβουλέψου τον τιμοκατάλογο του κυλικείου

Ποσότητα	Τύπος	Τιμή
1	Τόστ	1,00 €
1	Ποτό	0,50 €
1	Μπισκότο	0,20 €
1	Μπισκότο	0,20 €
1	Μπισκότο	0,20 €
1	Μπισκότο	0,20 €
1	Μπισκότο	0,20 €
1	Μπισκότο	0,20 €
1	Μπισκότο	0,20 €
1	Μπισκότο	0,20 €

και απάντησε στις παρακάτω ερωτήσεις.

A. Πόσα χρήματα πρέπει να πληρώσει η Μαρία;

α) Κύκλωσε τη σωστή απάντηση:



β) Γράψε την απάντησή σου: .....

B. Αν η Μαρία δώσει στον υπάλληλο του κυλικείου **10 ευρώ**



πόσα χρήματα πρέπει να πάρει ρέστα;

α) Κύκλωσε τη σωστή απάντηση:



β) Γράψε την απάντησή σου: .....

**Επιμέλεια: Λ. Βλαχάκη - Μαθηματικός**

\*Απαγορεύεται η οποιασδήποτε μορφής αναπαραγωγή του υλικού χωρίς αναφορά στα στοιχεία της δημιουργού.