

## ΓΕΩΜΕΤΡΙΚΑ ΣΧΗΜΑΤΑ ΤΟΥ ΕΠΙΠΕΔΟΥ (II)

(κύκλος, τρίγωνο, τετράγωνο, ορθογώνιο παραλληλόγραμμο, ρόμβος, πολύγωνα)

**Δραστηριότητα 1:** Άσκηση αντιστοίχισης

**Βαθμός δυσκολίας:** 1-Αρκετά Εύκολο

**Οδηγίες:** Ενώνω τα γεωμετρικά σχήματα που μοιάζουν μεταξύ τους.

**Δραστηριότητα 2:** Άσκηση αντιστοίχισης

**Βαθμός δυσκολίας:** 2-Εύκολο

**Οδηγίες:** Ενώνω τα γεωμετρικά σχήματα με τα ονόματά τους.

**Δραστηριότητα 3:** Σταυρόλεξο γεωμετρικών εννοιών

**Βαθμός δυσκολίας:** 3-Λίγο Δύσκολο

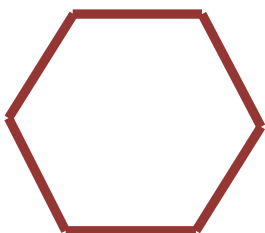




**Οδηγίες:** Βρίσκω τα ονόματα των γεωμετρικών σχημάτων και συμπληρώνω το σταυρόλεξο.

(Ερμηνεία βαθμών δυσκολίας: 0-Πολύ Εύκολο, 1-Αρκετά Εύκολο, 2-Εύκολο, 3-Λίγο Δύσκολο, 4-Δύσκολο)

Επιμέλεια: Λ. Βλαχάκη - Μαθηματικός

## ΔΡΑΣΤΗΡΙΟΤΗΤΑ 1

Οδηγίες: Ενώνω τα γεωμετρικά σχήματα που μοιάζουν μεταξύ τους.




Επιμέλεια: Λ. Βλαχάκη - Μαθηματικός

\*Απαγορεύεται η οποιασδήποτε μορφής αναπαραγωγή του υλικού χωρίς αναφορά στα στοιχεία της δημιουργού του.


## ΔΡΑΣΤΗΡΙΟΤΗΤΑ 2

**Οδηγίες:** Ενώνω τα γεωμετρικά σχήματα με τα ονόματά τους.



•

• Ορθογώνιο




•

• Τετράγωνο



•

• Ρόμβος




•

• Κύκλος



•

• Πολύγωνο




•

• Τρίγωνο

**Επιμέλεια: Λ. Βλαχάκη - Μαθηματικός**

\*Απαγορεύεται η οποιασδήποτε μορφής αναπαραγωγή του υλικού χωρίς αναφορά στα στοιχεία της δημιουργού του.

## ΔΡΑΣΤΗΡΙΟΤΗΤΑ 3







### Κάθετα:

1. Το όνομα του μαύρου γεωμετρικού σχήματος.
2. Το όνομα του κόκκινου γεωμετρικού σχήματος.

### Οριζόντια:

3. Το όνομα του κίτρινου γεωμετρικού σχήματος.
4. Το όνομα του μπλε γεωμετρικού σχήματος.
5. Το όνομα του πράσινου γεωμετρικού σχήματος.



Επιμέλεια: Λ. Βλαχάκη - Μαθηματικός

\*Απαγορεύεται η οποιασδήποτε μορφής αναπαραγωγή του υλικού χωρίς αναφορά στα στοιχεία της δημιουργού του.