

Δραστηριότητες Νηπιαγωγείου

Φύλλο Εργασίας

ΟΙ ΑΡΙΘΜΟΙ

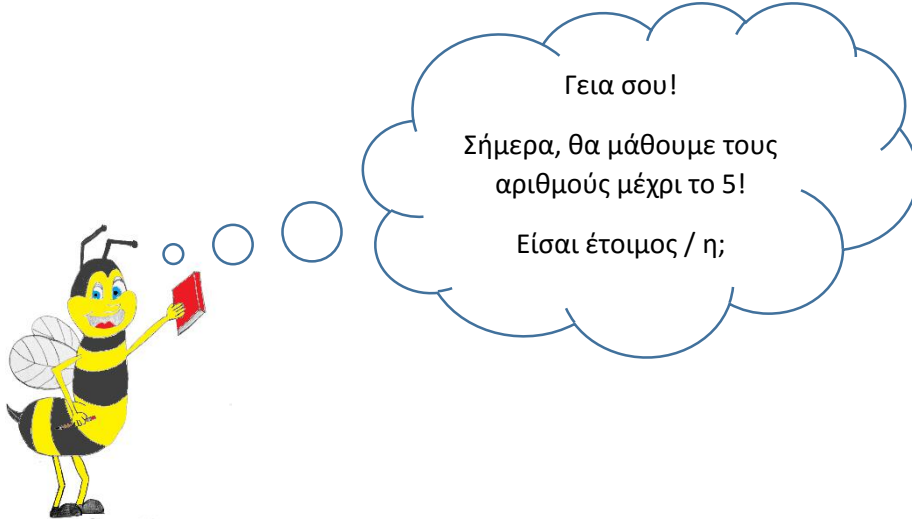
1 - 2 - 3 - 4 - 5

Λυμπεροπούλου Βασιλική




taexeiola
ΨΗΦΙΑΚΑ ΕΚΠΑΙΔΕΥΤΙΚΑ ΒΟΗΘΗΜΑΤΑ

Οι αριθμοί 1 – 2 – 3 – 4 – 5

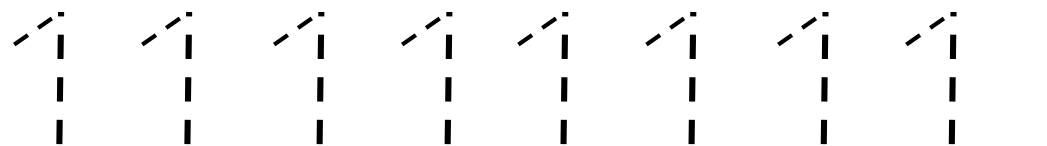


Πόσα είναι τα μήλα;




Σωστά!


Είναι μόνο ένα! Μπορείς να γράψεις τον αριθμό 1;



Χρωμάτισε μόνο 1 καραμέλα.



Πόσα είναι τα κουνελάκια;

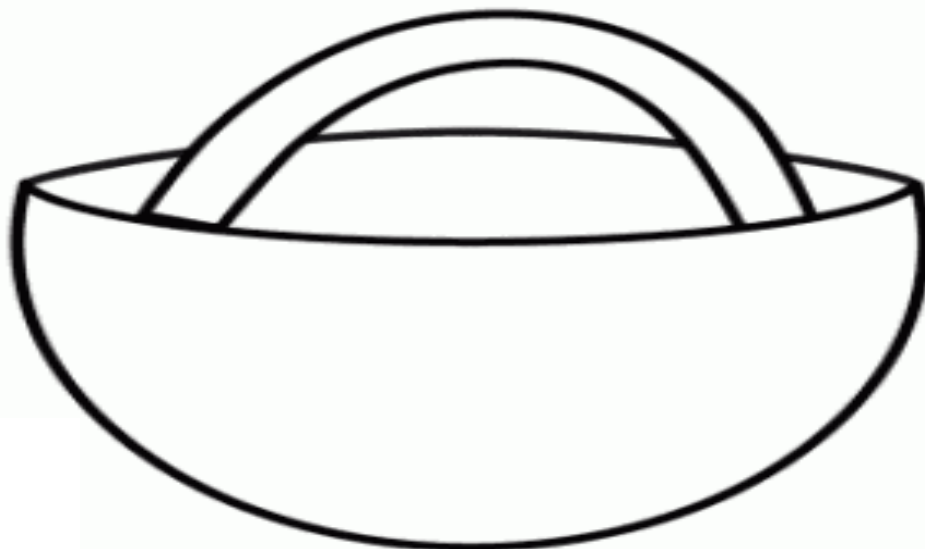


Μπράβο σου! Είναι 2.

Γράψε τον αριθμό 2.



Κόψε 2 αστεράκια και κόλλησέ τα μέσα στο καλάθι. (Θα τα βρεις στην τελευταία σελίδα)






Θυμάσαι το παραμύθι με τα
γουρουνάκια και τον λύκο;
Πόσα ήταν τα γουρουνάκια;

Έχεις δίκιο! Τα γουρουνάκια ήταν τρία!

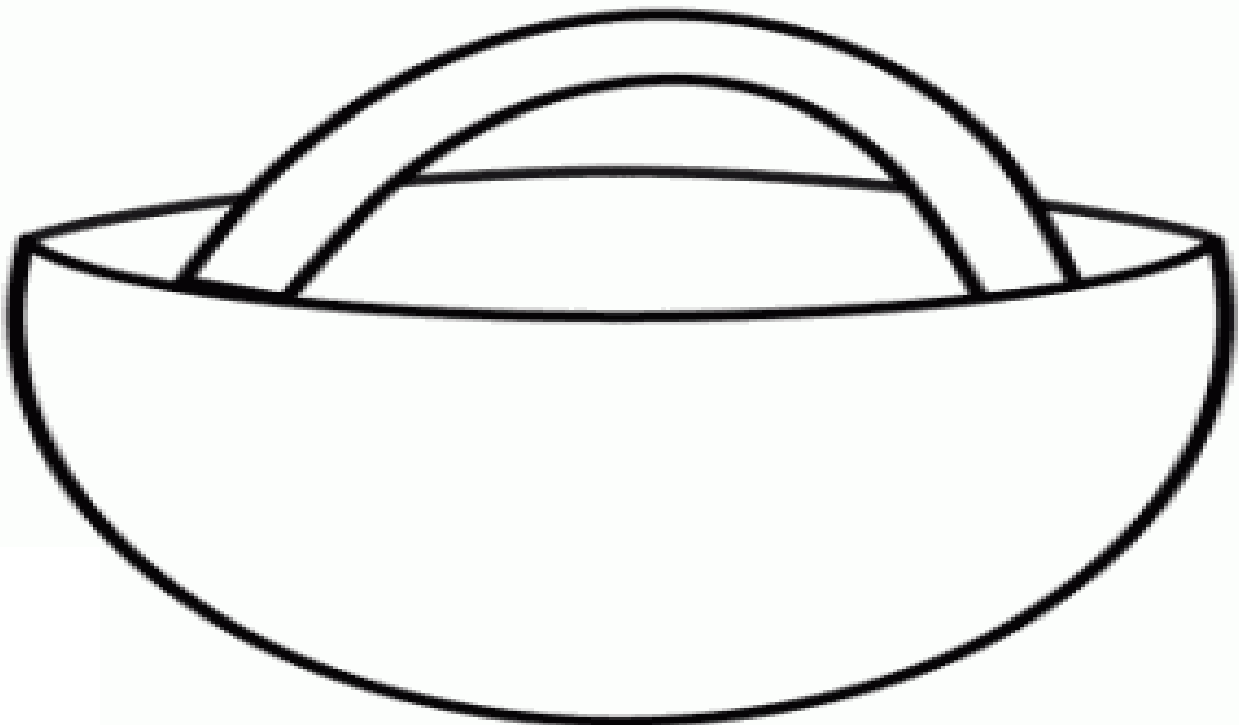
Μπορείς να σχεδιάσεις τα 3 γουρουνάκια μέσα στο
σπιτάκι για να τα σώσεις από τον λύκο;


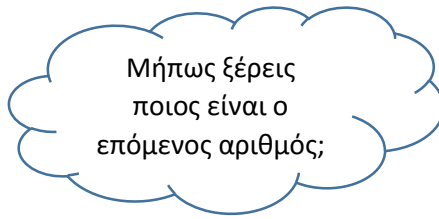


Μπορείς να γράψεις τον αριθμό 3 μερικές φορές;




Κόψε 3 ψαράκια και κόλλησέ τα μέσα στο καλάθι. (Θα τα βρεις στην τελευταία σελίδα)



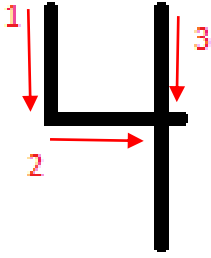


Για να βρεις ποιος είναι ο επόμενος αριθμός, αρκεί να μετρήσεις τις παρακάτω πεταλούδες. Πόσες είναι;




Σωστά μέτρησες! Είναι 4.

Μπορείς να γράψεις τον αριθμό 4 μερικές φορές;



Χρωμάτισε μόνο 4 ζώακια. (Όποια θέλεις εσύ)



Ο επόμενος αριθμός
είναι ένα μυστήριο... Θα
χρηαστούμε τη βοήθεια
του φίλου μας, του
ντετέκτιβ.



Βρήκα ένα σημαντικό στοιχείο.
Διάβασε τι λέει ο γρίφος...

Τα δάχτυλα του ενός χεριού,
αν θέλεις να μετρήσεις.


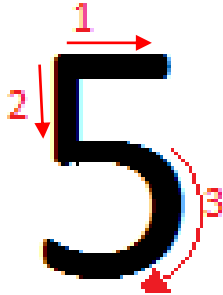
Τότε μόνο τον γρίφο μας με
σιγουριά θα λύσεις...

Πόσα είναι τα δάχτυλα στο ένα σου χέρι;

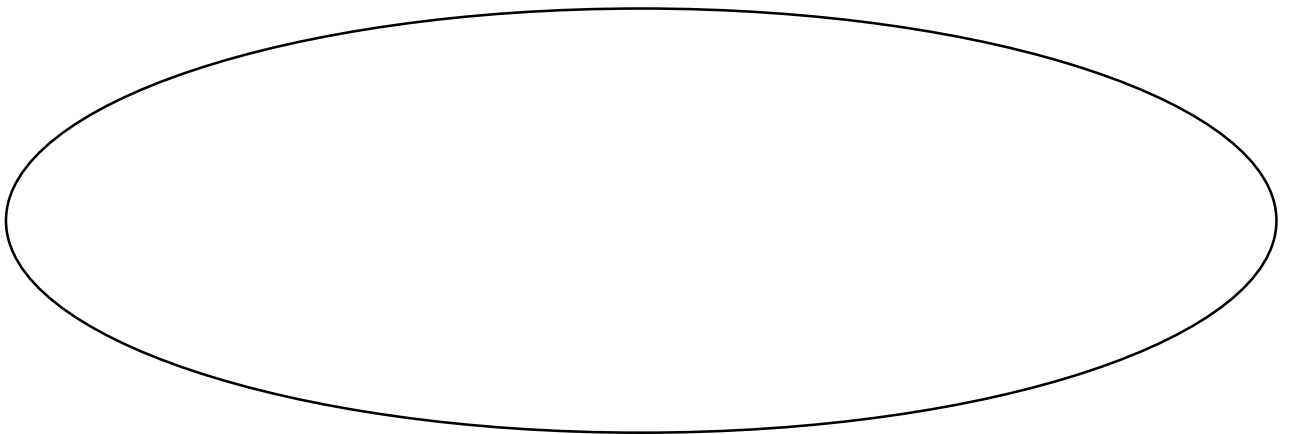
Έχεις δίκιο!

Ο επόμενος αριθμός μας είναι το 5!

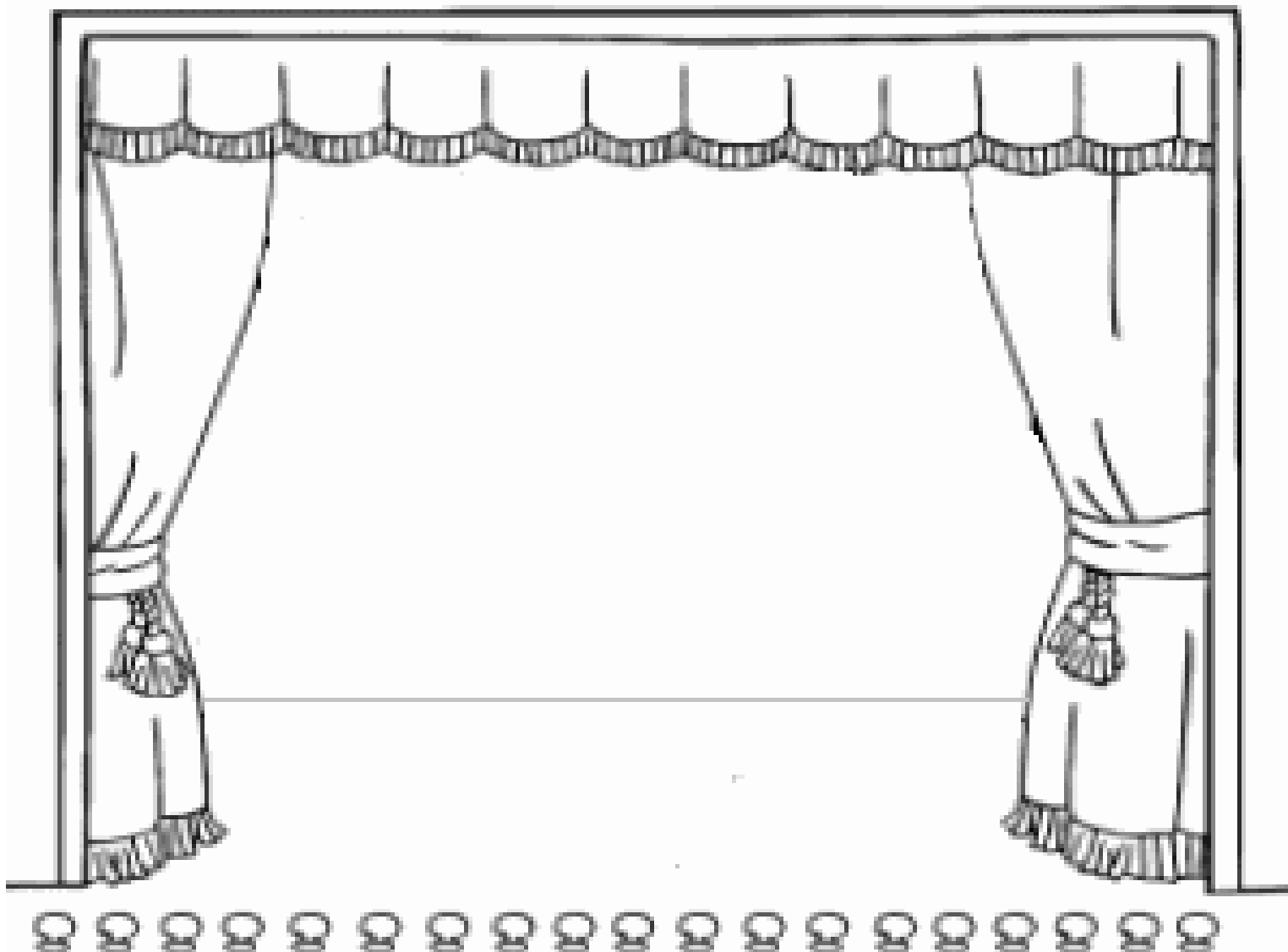
Γράψε τον αριθμό 5 μερικές φορές.



Ζωγράφισε 5 καραμέλες μέσα στο σακουλάκι.




Κόψε μόνο 5 μουσικά όργανα και κόλλησέ τα πάνω στη σκηνή για να ξεκινήσει η μουσική παράσταση. (Θα τα βρεις στην τελευταία σελίδα)




Αντιστοίχισε τους αριθμούς με τις ομάδες αντικειμένων.

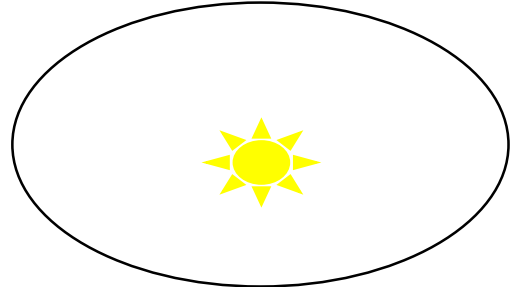
1




2




3



4



5

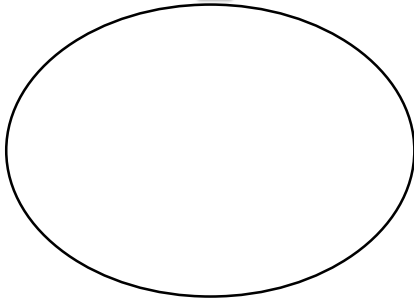


Βάλε τους αριθμούς στη σειρά ξεκινώντας από τον μικρότερο.

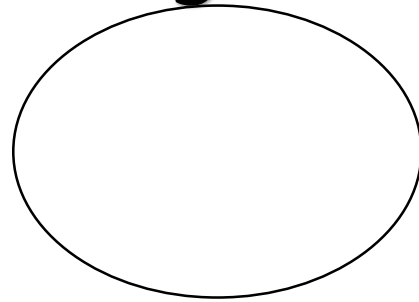


Ζωγράφισε μέσα στους κύκλους τόσα τριγωνάκια, όσα σου λέει ο αριθμός.

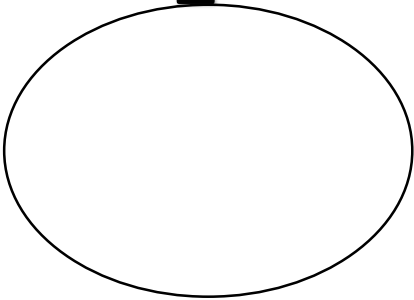
1



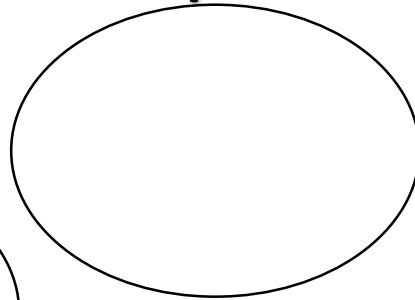
5



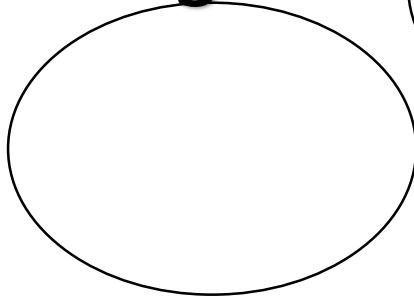
2




4



3



Παρατήρησε τις εικόνες και απάντησε στις ερωτήσεις.





Πόσες καραμέλες έχει η αρκούδα;

Η αρκούδα έχει ___ καραμέλες.

Πόσες καραμέλες έχει η αράχνη,

Η αράχνη έχει ___ καραμέλες.




Πόσες καραμέλες έχει η νυχτερίδα;

Η νυχτερίδα έχει ___ καραμέλες.

Πόσες καραμέλες έχει η μέλισσα;

Η μέλισσα έχει ___ καραμέλα.



Πόσες καραμέλες έχει ο Μέλιος;

Ο Μέλιος έχει ___ καραμέλες.

Ποιος έχει τις περισσότερες καραμέλες; _____

Ποιος έχει τις λιγότερες καραμέλες; _____



Έμαθες να μετράς μέχρι το πέντε;

Πάμε να μετρήσουμε μαζί;

1	ένα	
2	δύο	
3	τρία	
4	τέσσερα	
5	πέντε	

Προσπάθησε τώρα να μετρήσεις μόνος σου!

Εδώ κόβεις ό, τι χρειάζεσαι!

