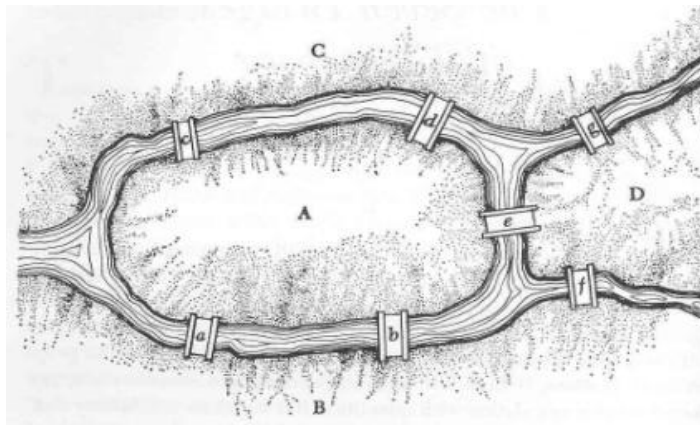


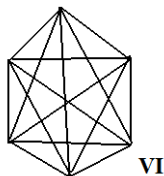
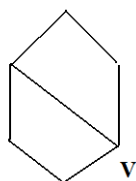
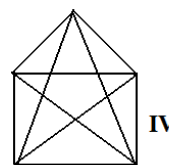
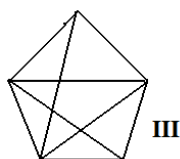
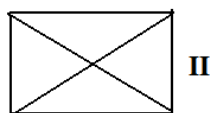
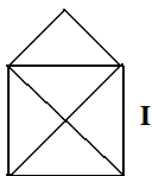
Ο Σέρλοκ Χόλμς, η εις άτοπον απαγωγή

1. ΟΙ ΓΕΦΥΡΕΣ ΤΟΥ ΚΕΝΙΓΚΣΜΠΕΡΓΚ

Προσπαθήστε να πάτε και στα 4 μέρη (περιοχές A, B, C και D), περνώντας μία φορά από κάθε γέφυρα (Τις περιοχές A, B, C και D μπορείτε να τις επισκευτείτε όσες φορές θέλετε).



2. Ποια από τα επόμενα σχήματα μπορείτε να φτιάξετε με μία μονοκονδυλιά;



Αφού ανακαλύψετε ποια γράφονται με μονοκονδυλιά και ποια όχι, χωρίστε τα σε 2 ομάδες (1^η ομάδα γράφονται με μονοκονδυλιά - 2^η ομάδα δεν γράφονται με μονοκονδυλιά) και βρείτε ομοιότητες και διαφορές μεταξύ τους. Αφού βρείτε ένα μοτίβο, διατυπώστε έναν κανόνα για το ποια σχήματα μπορούν να γραφούν με μονοκονδυλιά.