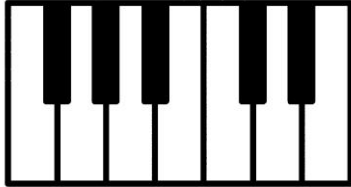



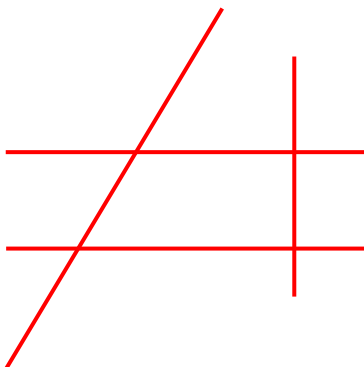
Όνομα \_\_\_\_\_  
Επώνυμο \_\_\_\_\_  
Ημερομηνία \_\_\_\_\_




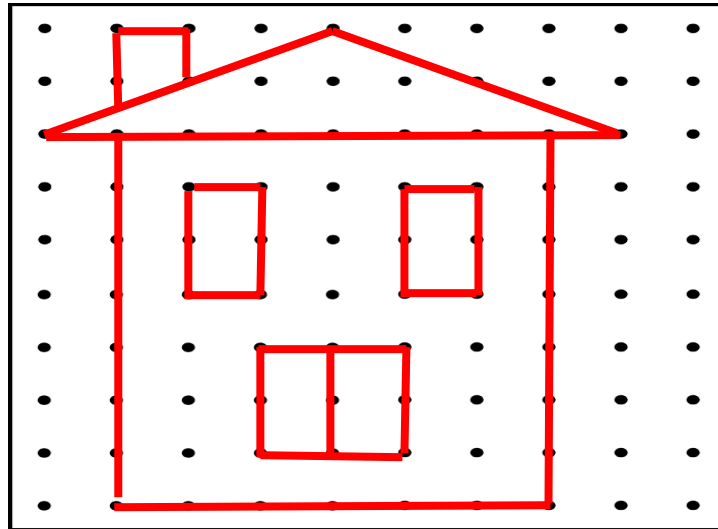
1. Παρατηρώ τις ευθείες, βρίσκω αυτές που είναι κάθετες μεταξύ τους βάζοντας ✓.



2. Βρίσκω με το γνώμονα ποιες ευθείες είναι κάθετες μεταξύ τους και ποιες γωνίες είναι ορθές.



**3. Μπορείς να σχεδιάσεις με το χάρακά σου το ίδιο σχήμα;**



**4. Με το διαβήτη σου και το χάρακά σου να κατασκευάσεις τον ήλιο.**

