

Όνομα _____
Επώνυμο _____
Ημ/νία _____

ΠΟΛΥΠΛΑΣΙΑΣΜΟΙ



1. Υπολογίζω τα διπλάσια και τα μισά.

$200 \times 2 =$

$200 : 2 =$

$500 \times 2 =$

$500 : 2 =$

$300 \times 2 =$

$300 : 2 =$

$120 \times 2 =$

$120 : 2 =$

2. Υπολογίζω τα γινόμενα και γράφω το αποτέλεσμα.

$12 \times 5 =$

$14 \times 3 =$

$25 \times 3 =$

$60 \times 5 =$


$100 \times 7 =$

$200 \times 4 =$

$20 \times 6 =$

$30 \times 6 =$

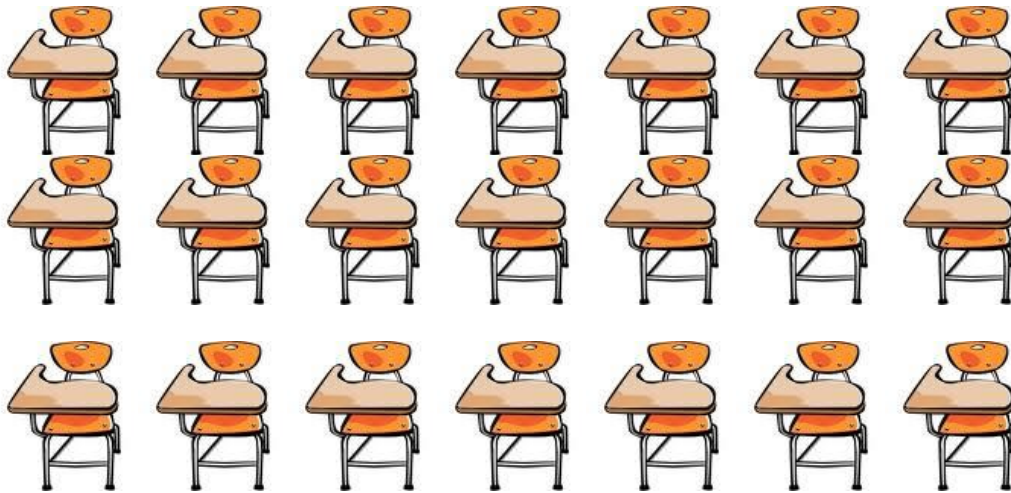
3. Γράφω την απάντηση με μορφή γινομένου.



* Πόσα πλακάκια έχει ο τοίχος του μπάνιου;

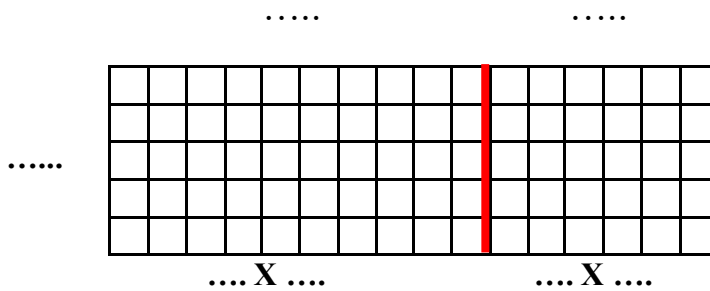
ΥΠΟΛΟΓΙΖΩ

..... \times =



* Πόσα θρανία έχει η τάξη;
ΥΠΟΛΟΓΙΖΩ
..... X =

4. Υπολογίζω πόσα είναι τα τετράγωνα.



..... + =

Όλα είναι

5. Υπολογίζω τα παρακάτω γινόμενα σύμφωνα με το παράδειγμα.

$$25 \times 5 = (20+5) \times 5 = (5 \times 5) + (5 \times 20) = 25 + 100 = 125$$

$$24 \times 6 = \dots\dots\dots$$

$$42 \times 7 = \dots\dots\dots$$

$$24 \times 5 = \dots\dots\dots$$

$$36 \times 8 = \dots\dots\dots$$

$$55 \times 4 = \dots\dots\dots$$

$$45 \times 9 = \dots\dots\dots$$