


Όνομα \_\_\_\_\_  
Επώνυμο \_\_\_\_\_  
Ημ/νία \_\_\_\_\_

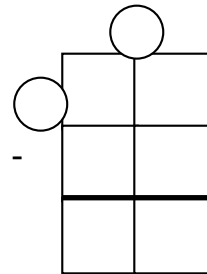
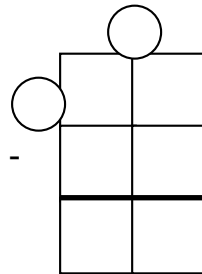
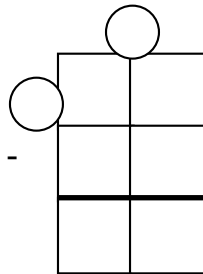
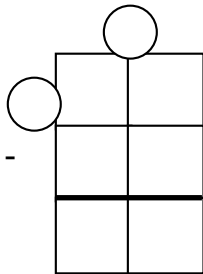


- Οι μονάδες κάτω από τις μονάδες.
- Οι δεκάδες κάτω από τις δεκάδες.
- Οι εκατοντάδες κάτω από τις εκατοντάδες.

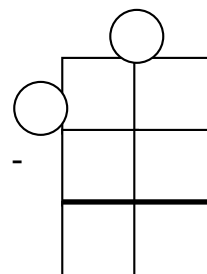
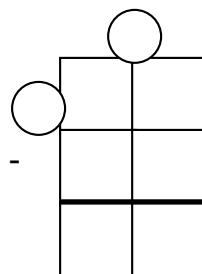
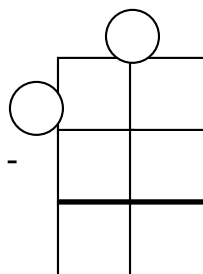
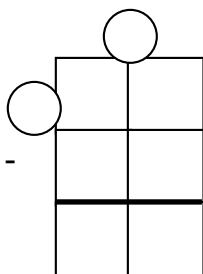


1. Κάνω κάθετα τις αφαιρέσεις και συμπληρώνω τα κρατούμενα όπου υπάρχουν.

**46-14 65-18 74-39 38-29**



**72-27 55-17 24-8 84-67**



2. Υπολογίζω και γράφω το αποτέλεσμα.

$55-25=...$

$65-40=...$

$900-400=...$

$75-42=...$

$750-600=...$

$85-15=...$

$95-13=...$

$46-24=...$

3. Ο κύριος Ευάγγελος διάβασε το βιβλίο της εικόνας σε μια εβδομάδα. Αφού διαβάσω τον πίνακα απαντώ στις ερωτήσεις



ΗΜΕΡΑ	ΔΕΥΤΕΡΑ	ΤΡΙΤΗ	ΤΕΤΑΡΤΗ	ΠΕΜΠΤΗ	ΠΑΡΑΣΚΕΥΗ	ΣΑΒΒΑΤΟ	ΚΥΡΙΑΚΗ
ΣΕΛΙΔΕΣ	35	40	18	9	27	42	19

☞ Ποια μέρα διάβασε τις περισσότερες σελίδες;

.....

☞ Ποια μέρα διάβασε τις λιγότερες σελίδες;

.....

☞ Πόσες περισσότερες σελίδες διάβασε την Τρίτη από την Κυριακή ;

.....