

Όνομα _____
Επώνυμο _____
Ημ/νία _____

ΟΙ ΑΡΙΘΜΟΙ ΜΕΧΡΙ ΤΟ 1000




1. Ανεβαίνω ανά 100 από το 100 μέχρι το 1000:

100, 200,

2. Κατεβαίνω ανά 100 από το 1000 μέχρι το 100:

1000, 900,

3. Γράφω τους παρακάτω αριθμούς με λέξεις.



406 : 559 :
539 : 390 :
803 : 766 :

4. Γράφω τους παρακάτω αριθμούς με ψηφία.

διακόσια δεκαπέντε : εξακόσια οχτώ :
πεντακόσια τριάντα έξι : εκατόν εννιά :
τετρακόσια σαράντα δύο : εννιακόσια πέντε :



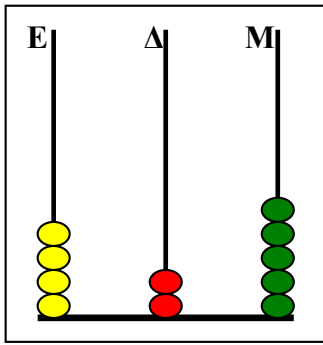
5. Βρίσκω και συμπληρώνω τα παρακάτω κενά.

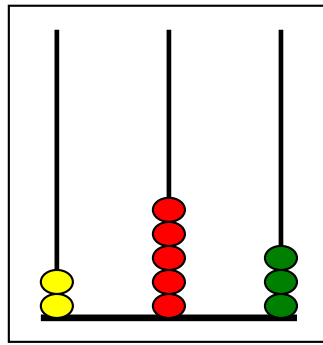
289 είναι *Εκατοντάδες*, *Δεκάδες* και *Μονάδες*
289 είναι *Δεκάδες* και *Μονάδες*
704 είναι *Εκατοντάδες*, *Δεκάδες* και *Μονάδες*
704 είναι *Δεκάδες* και *Μονάδες*
800 είναι *Εκατοντάδες*, *Δεκάδες* και *Μονάδες*
800 είναι *Δεκάδες* και *Μονάδες*

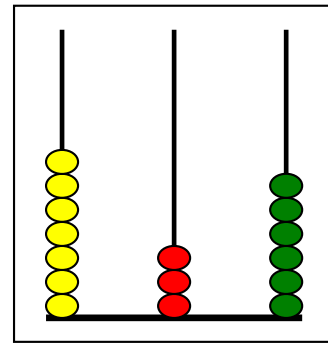
6. Συμπληρώνω τον αριθμό που είναι πριν και μετά.

..... 310 200 749
..... 869 651 340

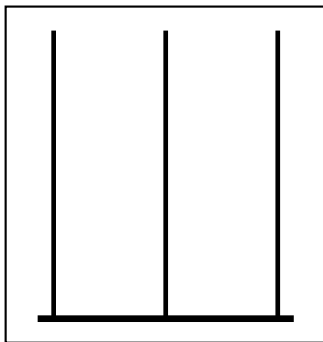
7. Γράφω με ψηφία τους αριθμούς που δείχνουν οι άβακες.



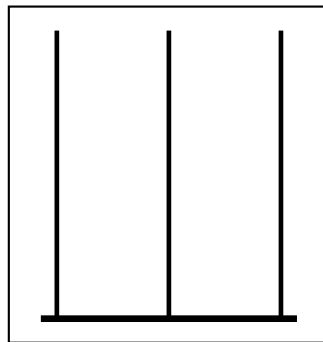




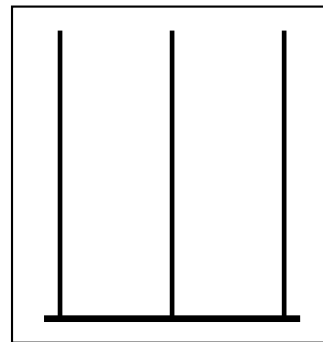
8. Σχηματίζω τους παρακάτω αριθμούς στους άβακες.



5 4 0



4 2 7



3 0 6

9. Αναλύω τον αριθμό σε άθροισμα

10. Βρίσκω και συμπληρώνω το άθροισμα.

όπως στο παράδειγμα.

345 = 300 + 40 + 5

786 =

209 =

888 =

200 + 50 + 7 = 257

600 + 30 + 8 =

400 + 50 + 9 =

800 + 20 + 3 =