



Όνομα _____
Επώνυμο _____
Ημ/νία _____

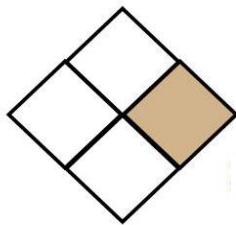
ΓΡΑΠΤΗ ΔΟΚΙΜΑΣΙΑ



1. Τι μέρος του σχήματος είναι βαμμένο;









2. Τι μέρος του κύκλου κρατούν τα παιδιά; (Γράφω την απάντησή μου με αριθμούς και λέξεις)



_____



_____



_____

3. Συγκρίνω το μέρος του ίδιου ποσού.

→ Κυκλώνω το $\frac{1}{3}$



Το $\frac{1}{3}$ είναι ευρώ.

→ Κυκλώνω τα $\frac{2}{6}$



Τα $\frac{2}{6}$ είναι ευρώ.

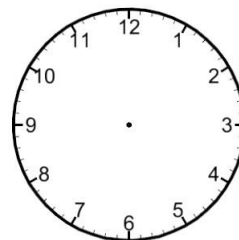
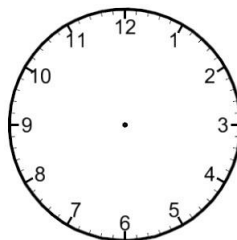
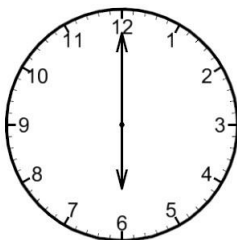
Συμπέρασμα: Το κλάσμα — έχει την ίδια αξία με το κλάσμα —

Τα κλάσματα αυτά λέγονται και έχουμε: — = —

4. Βάλε τους δείκτες εκεί που πρέπει.

Μετά από ένα τέταρτο

Μετά από δύο τέταρτα



Μετά από τρία τέταρτα

Μετά από τέσσερα τέταρτα



5. Τα παιδιά έφαγαν μια σοκολάτα που είχε ... Χ ... = ... ίσα κομμάτια.

Έφαγε ... κομμάτια

Έφαγε ... κομμάτια

Έφαγε ... κομμάτια

☞ Τι μέρος της σοκολάτας έφαγε το κάθε παιδί;

Ποια άλλα κλάσματα μπορώ να χρησιμοποιήσω;

[Empty box]

[Empty box]

[Empty box]

↓

↓

↓

[Empty box]

[Empty box]

[Empty box]