

Όνομα _____
Επώνυμο _____
Ημερομηνία _____

ΓΡΑΠΤΗ ΔΟΚΙΜΑΣΙΑ
ΣΤΑ ΜΑΘΗΜΑΤΙΚΑ



1. Γράψε δίπλα από τους αριθμούς τον προηγούμενο και τον επόμενο αριθμό.

..... 400 605 799
..... 314 520 569

2. Τοποθετώ κάθετα τους αριθμούς και υπολογίζω.

$56 + 24 + 5$	$37 + 23 + 32$	$67 - 43$


3. Γράψε το όνομα κάθε σχήματος.



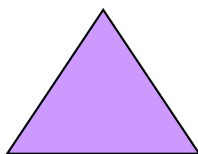
.....




.....



.....



.....



.....

4. Υπολόγισε και γράψε τα αποτελέσματα.

$5 \times 8 = \dots\dots$

$4 \times 4 = \dots\dots$

$9 \times 6 = \dots\dots$

$40 : 8 = \dots\dots$

$16 : 4 = \dots\dots$

$54 : 9 = \dots\dots$

$3 \times 5 = \dots\dots$

$4 \times 3 = \dots\dots$

$9 \times 8 = \dots\dots$

$15 : 5 = \dots\dots$

$12 : 4 = \dots\dots$

$72 : 8 = \dots\dots$

$2 \times 8 = \dots\dots$

$6 \times 6 = \dots\dots$

$7 \times 6 = \dots\dots$





$16 : 2 = \dots\dots$

$36 : 6 = \dots\dots$

$42 : 7 = \dots\dots$



5. Ζωγράφισε όσα νομίσματα χρειάζονται για να αγοράσεις τα πράγματα που φαίνονται στις εικόνες.

	80 λεπτά		35 λεπτά
	8 ευρώ		145 ευρώ

6. Πόσα ευρώ είναι όλα μαζί;



☞ Υπολογίζω:

☞ Όλα μαζί είναι ευρώ.

7. Τα 5 παιδιά έχουν 6 κουτιά ξυλομπογιές. Κάθε κουτί έχει 5 ξυλομπογιές.

* Πόσες ξυλομπογιές έχουν συνολικά τα παιδιά;

* Πόσες ξυλομπογιές θα πάρει το κάθε παιδί, αν τις μοιράσουν ;



☞ Υπολογίζω:

☞ Τα παιδιά έχουν συνολικά ξυλομπογιές.

☞ Υπολογίζω:

☞ Το κάθε παιδί θα πάρει ξυλομπογιές.