

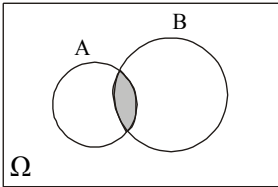
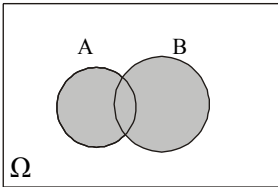
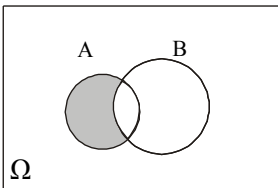
30ΛΕΠΤΗ ΑΞΙΟΛΟΓΗΣΗ

στα

Μαθηματικά

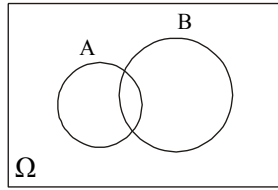
1^ο ΛΥΚΕΙΟ ΒΟΛΟΥ

Ερωτήσεις του τύπου «Σωστό - Λάθος»

11. * Με $N(A)$ συμβολίζουμε όλα τα δυνατά υποσύνολα ενός ενδεχομένου A . Σ Λ
12. * Το συμπλήρωμα A' οποιουδήποτε ενδεχομένου A ενός πειράματος τύχης είναι επίσης ενδεχόμενο αυτού του πειράματος. Σ Λ
13. * Στο διπλανό σχήμα το γραμμοσκιασμένο χωρίο απεικονίζει το ενδεχόμενο $A \cup B$. Σ Λ
- 
14. * Στο διπλανό σχήμα το γραμμοσκιασμένο χωρίο απεικονίζει το ενδεχόμενο $A \cup B$. Σ Λ
- 
15. * Στο διπλανό σχήμα το γραμμοσκιασμένο χωρίο απεικονίζει το ενδεχόμενο $B - A$. Σ Λ
- 
16. * Αν A, B είναι ενδεχόμενα ενός πειράματος τύχης με δειγματικό χώρο Ω , τότε ισχύει η ισότητα $A - B = A \cap B'$. Σ Λ
17. * Αν A, B ενδεχόμενα ενός πειράματος τύχης με

δειγματικό χώρο Ω τότε ισχύει η ισότητα $B \cup A = (B-A) \cup (A-B)$. Σ Λ

18. * Στο διπλανό σχήμα τα ενδεχόμενα A , B είναι ασυμβίβαστα.



Σ Λ

19. * Δύο ενδεχόμενα λέγονται ασυμβίβαστα όταν $A \cap B = \emptyset$.

Σ Λ

20. * Τα ενδεχόμενα $A = \{1, 4, 7\}$, $B = \{4, 7, 11\}$ είναι ξένα μεταξύ τους.

Σ Λ

ΚΑΛΗ ΕΠΙΤΥΧΙΑ ΣΤΟΥΣ ΣΤΟΧΟΥΣ ΣΑΣ!!!!!!