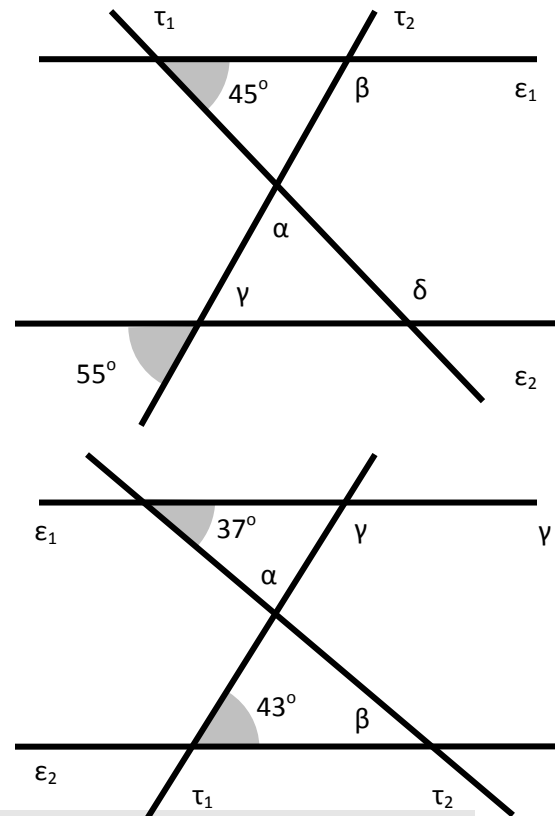
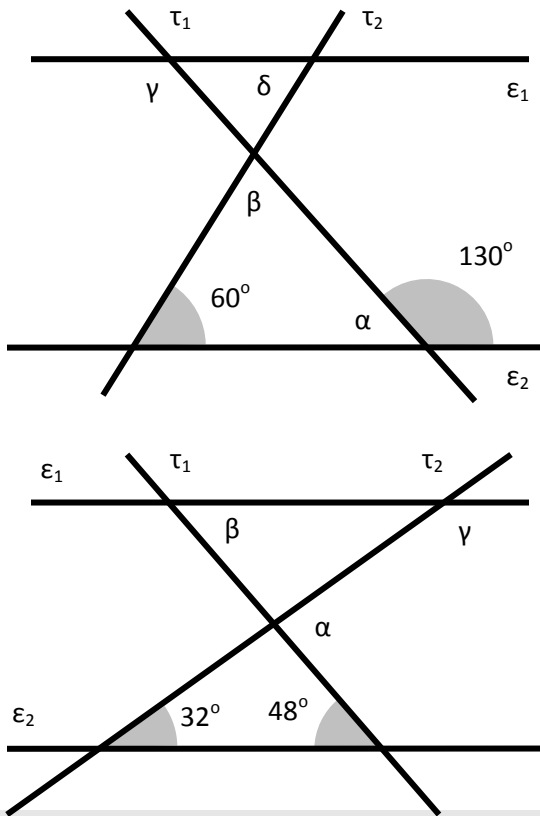


15' ΑΞΙΟΛΟΓΗΣΗ

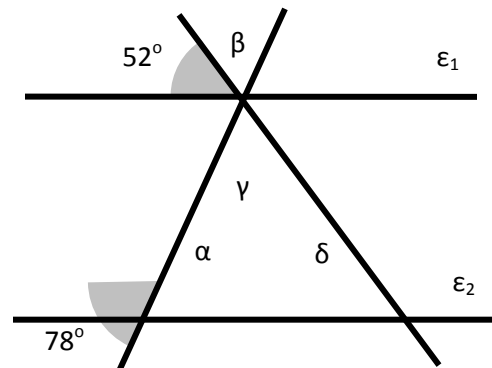
στα

Μαθηματικά

1. Στα παρακάτω σχήματα, να υπολογίσετε τις γωνίες που σημειώνονται, αν γνωρίζετε ότι σε κάθε περίπτωση $\epsilon_1 \parallel \epsilon_2$.



2. Στο διπλανό σχήμα, να υπολογίσετε τις γωνίες που σημειώνονται, αν γνωρίζετε ότι $\epsilon_1 \parallel \epsilon_2$.



Εύχομαι επιτυχία στο στόχο σας!!!!!!