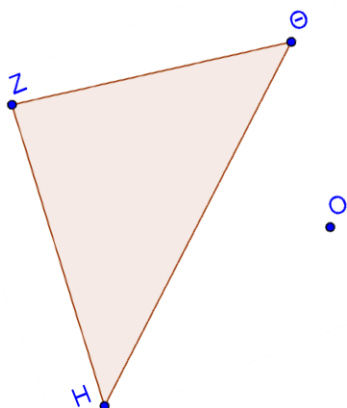


15' ΑΞΙΟΛΟΓΗΣΗ

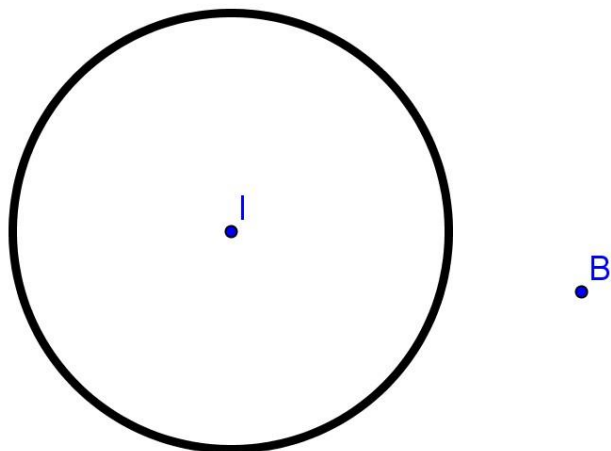
στα

Μαθηματικά

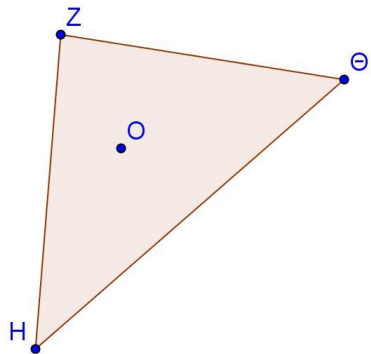
1. Βρείτε το συμμετρικό του τριγώνου ως προς το O



2. Βρείτε το συμμετρικό του κύκλου ως προς το B



- i. Βρείτε το συμμετρικό του τριγώνου ως προς το O και μετά ως προς το Θ



Εύχομαι επιτυχία στο στόχο σας!!!!!!