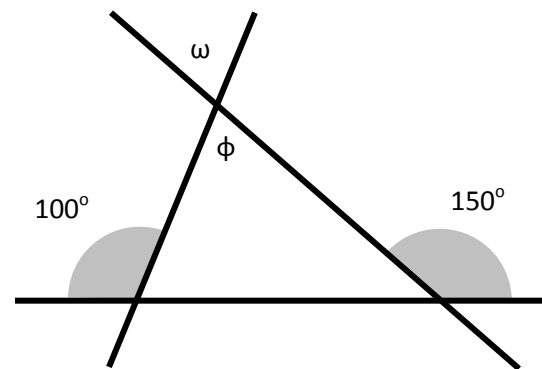
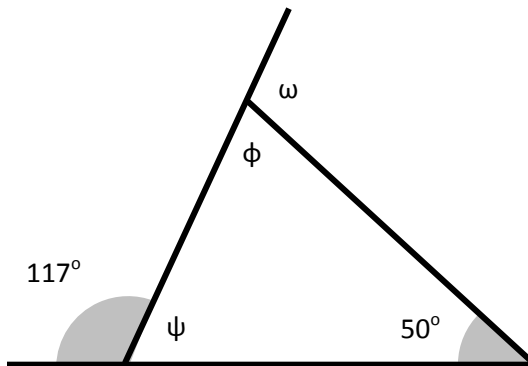


15' ΑΞΙΟΛΟΓΗΣΗ

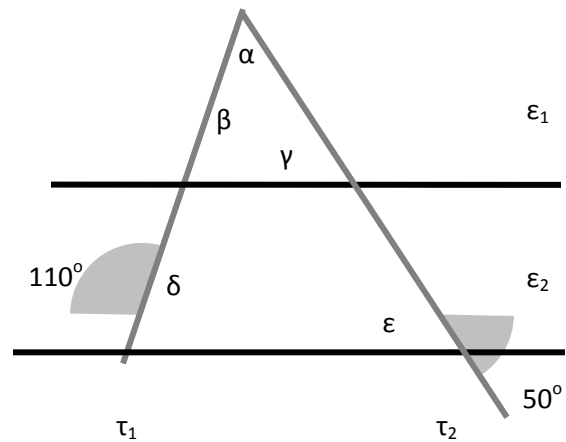
στα

Μαθηματικά

1. Να υπολογίσετε τις γωνίες, που είναι σημειωμένες στα παρακάτω σχήματα. Στη συνέχεια να χαρακτηρίσετε το είδος των τριγώνων, ως προς τις γωνίες τους.



2. Να βρείτε όλες τις γωνίες στο διπλανό σχήμα, αν γνωρίζετε ότι  $\epsilon_1 \parallel \epsilon_2$ .



Εύχομαι επιτυχία στο στόχο σας!!!!!!