

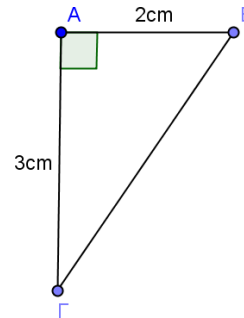
15' ΑΞΙΟΛΟΓΗΣΗ

στα

Μαθηματικά

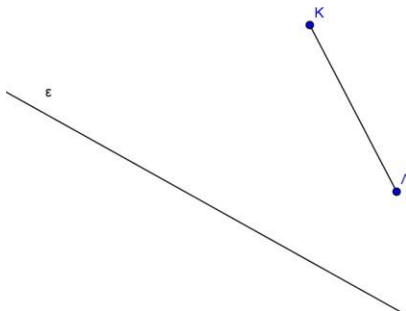
- 2.1. Στο παρακάτω σχήμα σχεδιάστε το συμμετρικό του τριγώνου ΑΒΓ ως προς την πλευρά ΒΓ.

Τι σχήμα σχηματίζεται και γιατί;

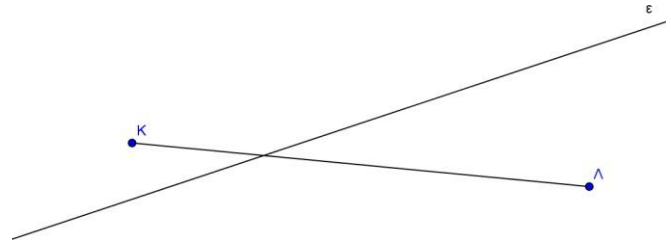


- 2.2. Να κατασκευάσετε το συμμετρικό του ευθύγραμμου τμήματος ΚΛ ως προς την ευθεία ε σε καθένα από τα παρακάτω σχήματα:

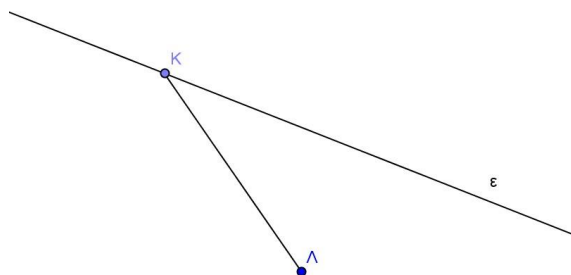
α)



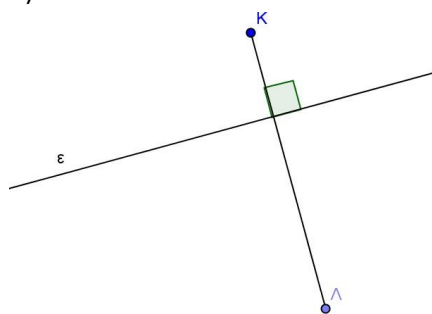
β)



γ)



δ)



Εύχομαι επιτυχία στο στόχο σας!!!!!!