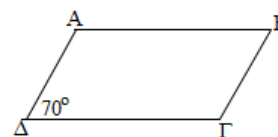


15 ΑΞΙΟΛΟΓΗΣΗ

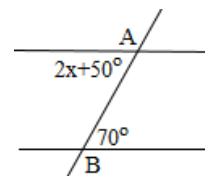
στα

Μαθηματικά

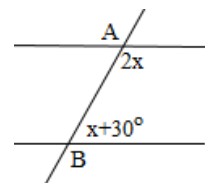
1) Να υπολογίσετε τις γωνίες του παραλληλογράμμου ΑΒΓΔ.



2) Να υπολογίσετε τις γωνίες του διπλανού σχήματος.



3) Να υπολογίσετε τις γωνίες του διπλανού σχήματος.



Εύχομαι επιτυχία στο στόχο σας!!!!!!