

ΕΛΛΗΝΙΚΗ ΔΗΜΟΚΡΑΤΙΑ
Υπουργείο Παιδείας,
Έρευνας και Θρησκευμάτων

ΠΕΡΙΦ/ΚΗ Δ/ΝΣΗ Α/ΘΜΙΑΣ & Β/ΘΜΙΑΣ
ΕΚΠ/ΣΗΣ ΘΕΣΣΑΛΙΑΣ
ΔΙΕΥΘΥΝΣΗ Β/ΘΜΙΑΣ ΕΚΠ/ΣΗΣ ΜΑΓΝΗΣΙΑΣ

ΓΥΜΝΑΣΙΟ ΚΑΝΑΛΙΩΝ


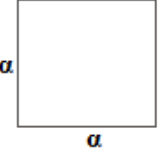
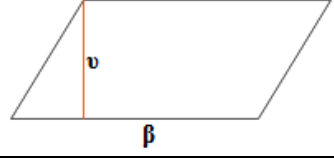
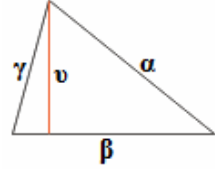
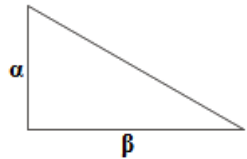
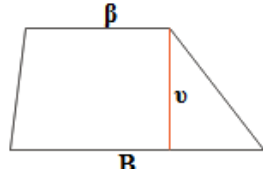
ΩΡΙΑΙΟ

ΔΙΑΓΩΝΙΣΜΑ

Εμβαδά επίπεδων σχημάτων.

ΘΕΜΑ Α

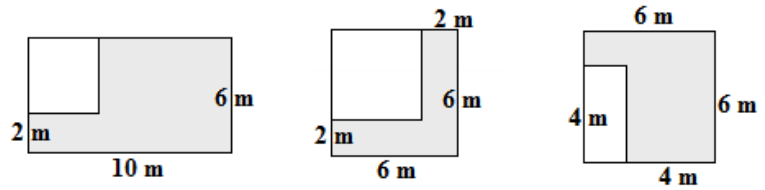
Να συμπληρωθεί ο παρακάτω πίνακας:

Ορθογώνιο	$E=$ $\Pi=$	
Τετράγωνο	$E=$ $\Pi=$	
Παραλληλόγραμμο	$E=$	
Τρίγωνο	$E=$ $\Pi=2\tau=$	
Ορθογώνιο τρίγωνο	$E=$	
Τραπεζίο	$E=$	

ΜΟΝΑΔΕΣ 6

ΘΕΜΑ Β

Να βρείτε το εμβαδόν των σκιασμένων χωρίων.

**ΜΟΝΑΔΕΣ 6****ΘΕΜΑ Γ**

Ένας αγρότης αντάλλαξε ένα ορθογώνιο χωράφι με άλλο τετράγωνο. Αν οι διαστάσεις του ορθογωνίου είναι 50 m και 200 m και το εμβαδόν του τετραγώνου 10 στρέμματα κέρδισε ή έχασε από την ανταλλαγή;

ΜΟΝΑΔΕΣ 8

Εύχομαι επιτυχία στους στόχους σας!!!!!!!