



ΕΛΛΗΝΙΚΗ ΔΗΜΟΚΡΑΤΙΑ

Υπουργείο Παιδείας,

Έρευνας και Θρησκευμάτων



ΠΕΡΙΦ/ΚΗ Δ/ΝΣΗ Α/ΘΜΙΑΣ & Β/ΘΜΙΑΣ
ΕΚΠ/ΣΗΣ ΘΕΣΣΑΛΙΑΣ
ΔΙΕΥΘΥΝΣΗ Β/ΘΜΙΑΣ ΕΚΠ/ΣΗΣ ΜΑΓΝΗΣΙΑΣ

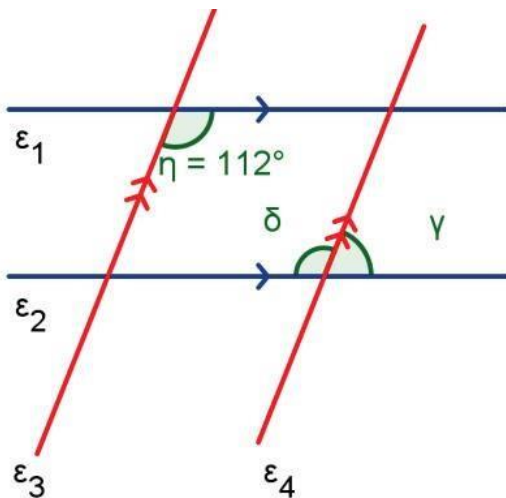
ΓΥΜΝΑΣΙΟ ΚΑΝΑΛΙΩΝ

15 ΑΞΙΟΛΟΓΗΣΗ

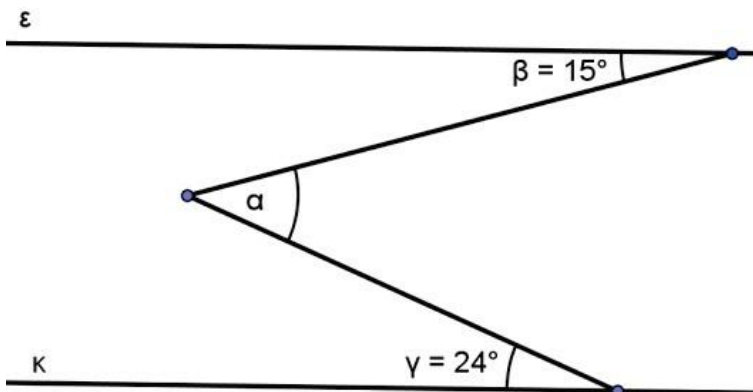
στα

Μαθηματικά

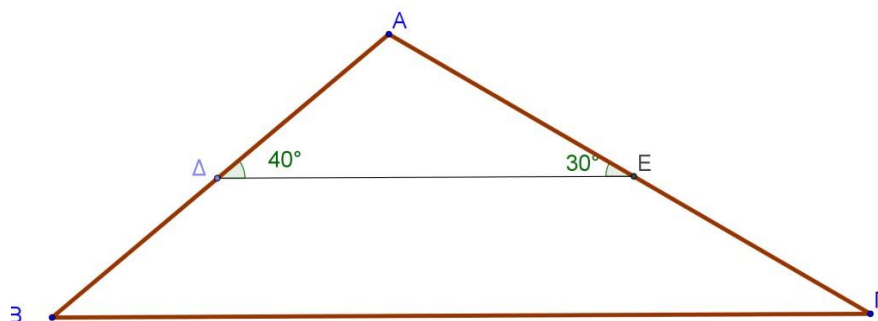
1. Να υπολογιστούν οι γωνίες δ , γ αν $\varepsilon_1 // \varepsilon_2$ και $\varepsilon_3 // \varepsilon_4$



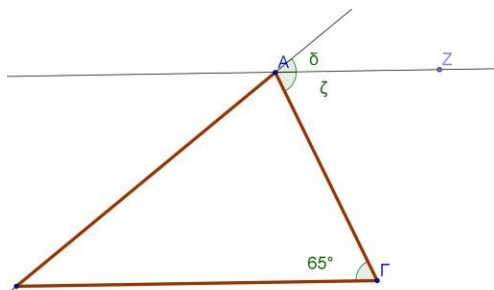
2. Να υπολογιστεί η γωνία α αν $\varepsilon // \kappa$



3. Να υπολογιστεί η γωνία Β Κ και η Γ αν $\Delta E // B\Gamma$



4. Αν $AZ // B\Gamma$ να υπολογίσετε τις γωνίες δ, ζ



Εύχομαι επιτυχία στο στόχο σας!!!!!!