



ΕΛΛΗΝΙΚΗ ΔΗΜΟΚΡΑΤΙΑ

Υπουργείο Παιδείας,

Έρευνας και Θρησκευμάτων

ΠΕΡΙΦ/ΚΗ Δ/ΝΣΗ Α/ΘΜΙΑΣ & Β/ΘΜΙΑΣ  
ΕΚΠ/ΣΗΣ ΘΕΣΣΑΛΙΑΣ  
ΔΙΕΥΘΥΝΣΗ Β/ΘΜΙΑΣ ΕΚΠ/ΣΗΣ ΜΑΓΝΗΣΙΑΣ

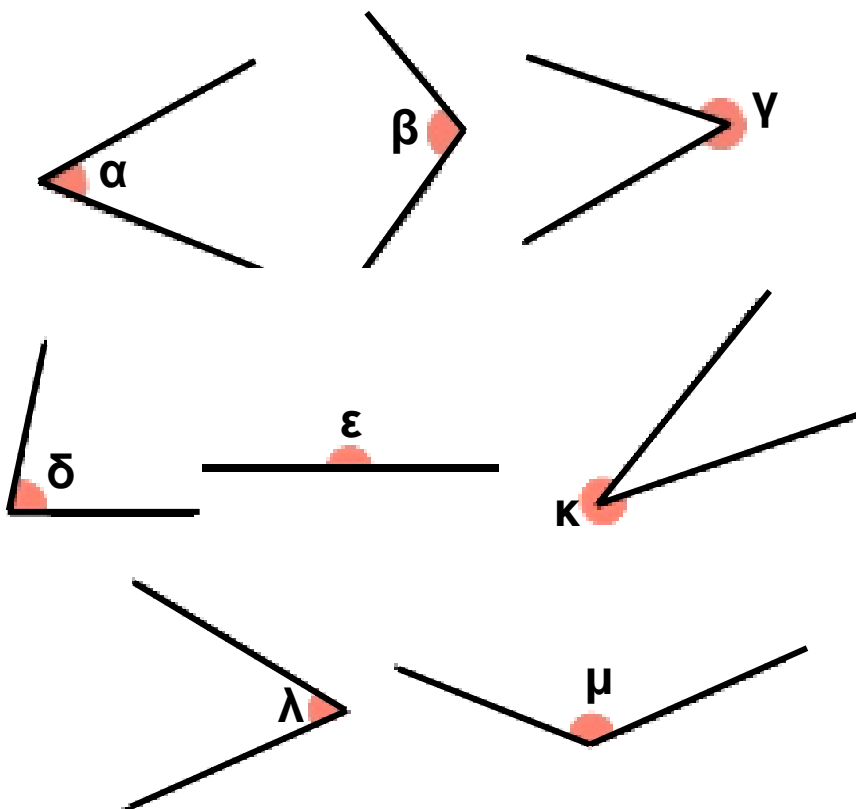
ΓΥΜΝΑΣΙΟ ΚΑΝΑΛΙΩΝ

ΩΡΙΑΙΑ ΑΞΙΟΛΟΓΗΣΗ

στα

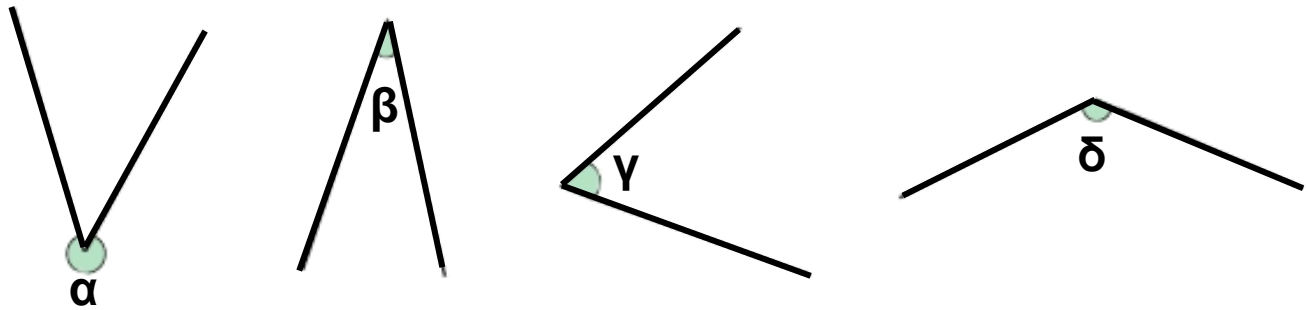
Μαθηματικά

1. Να βρεις το μέτρο των παρακάτω γωνιών:



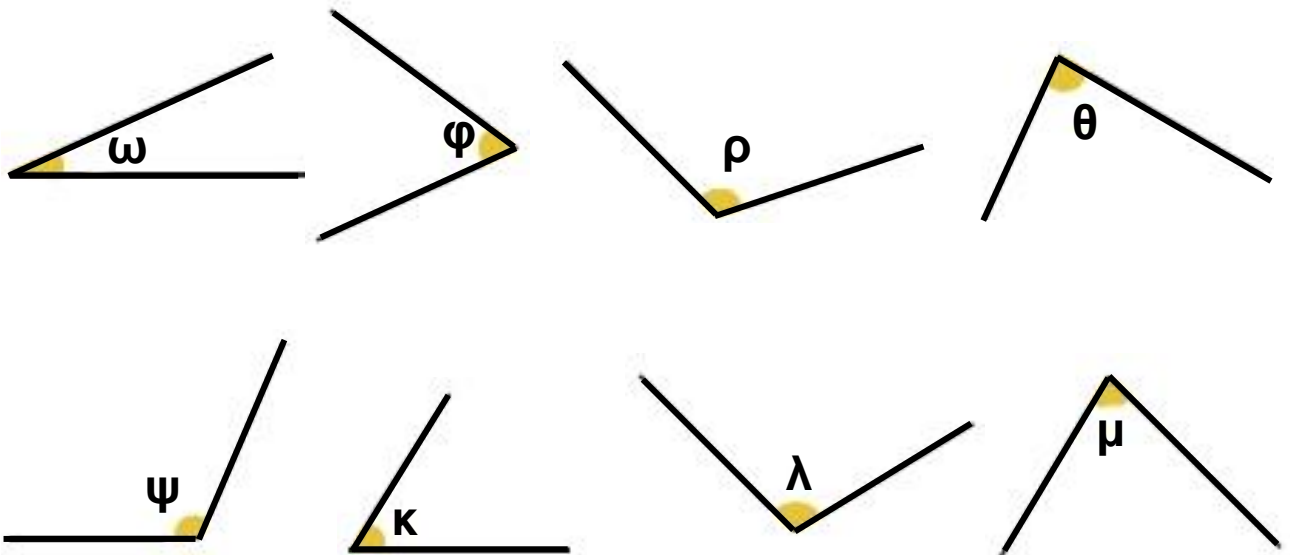
2. Σχημάτισε γωνίες ( $\alpha$ )  $48^\circ$ , ( $\beta$ )  $72^\circ$  και ( $\gamma$ )  $144^\circ$  και σχεδίασε τις διχοτόμους αυτών.

3. Να συγκρίνεις τις γωνίες και να τις γράψεις κατά σειρά από τη μεγαλύτερη προς τη μικρότερη.



4. Με το διαφανές χαρτί να συγκρίνεις τις γωνίες:

- |     |                                    |      |                                   |
|-----|------------------------------------|------|-----------------------------------|
| (α) | $\hat{\omega}$ και $\hat{\phi}$ ,  | (β)  | $\hat{\phi}$ και $\hat{\rho}$ ,   |
| (γ) | $\hat{\omega}$ και $\hat{\rho}$ ,  | (δ)  | $\hat{\psi}$ και $\hat{\kappa}$ , |
| (ε) | $\hat{\psi}$ και $\hat{\lambda}$ , | (στ) | $\hat{\psi}$ και $\hat{\mu}$ ,    |
| (ζ) | $\hat{\rho}$ και $\hat{\theta}$ .  |      |                                   |



Εύχομαι επιτυχία στο στόχο σας!!!!!!