



ΕΛΛΗΝΙΚΗ ΔΗΜΟΚΡΑΤΙΑ

Υπουργείο Παιδείας,

Έρευνας και Θρησκευμάτων



ΠΕΡΙΦ/ΚΗ Δ/ΝΣΗ Α/ΘΜΙΑΣ & Β/ΘΜΙΑΣ
ΕΚΠ/ΣΗΣ ΘΕΣΣΑΛΙΑΣ
ΔΙΕΥΘΥΝΣΗ Β/ΘΜΙΑΣ ΕΚΠ/ΣΗΣ ΜΑΓΝΗΣΙΑΣ

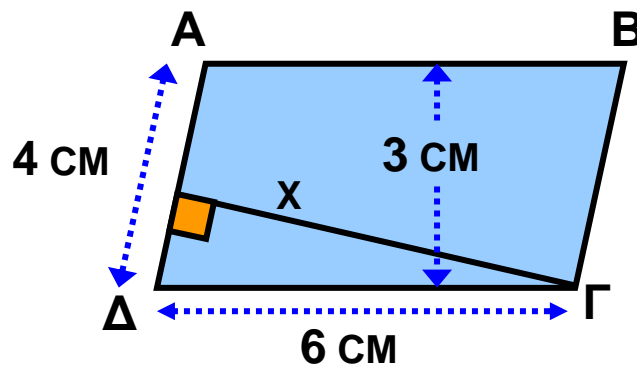
ΩΡΙΑΙΑ ΑΞΙΟΛΟΓΗΣΗ

στα

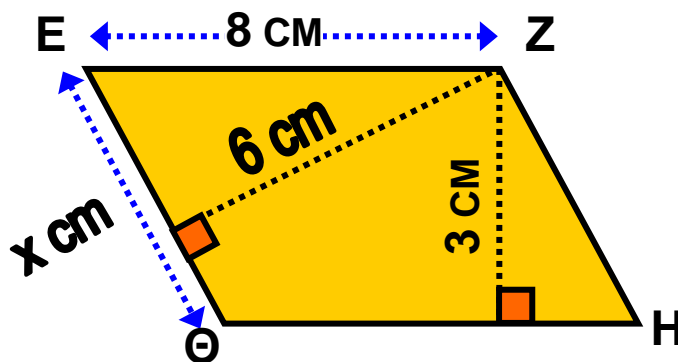
Μαθηματικά

ΓΥΜΝΑΣΙΟ ΚΑΝΑΛΙΩΝ

Να επιλέξετε τη σωστή απάντηση:

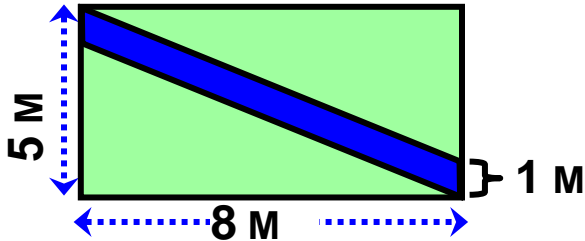


		A	B	Γ
1	Το εμβαδόν του παραλληλογράμμου ΑΒΓΔ είναι:	24	9	18
2	Το ύψος x που αντιστοιχεί στην πλευρά ΑΔ είναι:	5,5	9	4,5

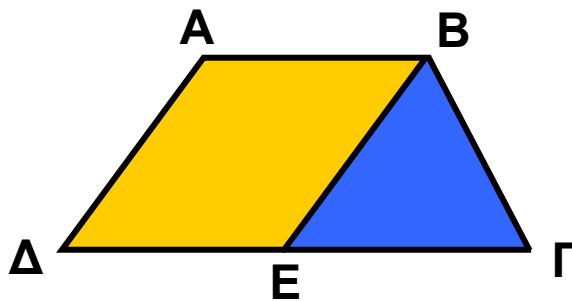


		A	B	Γ
3	Το εμβαδόν του παραλληλογράμμου ΕΖΗΘ είναι:	24	12	32
4	Η πλευρά x = ΕΘ είναι:	4	6	5

		A	B	Γ
8	Το παραπάνω παραλληλόγραμμο ΑΒΓΔ έχει εμβαδόν 16 cm^2 και το Ε είναι το μέσο της πλευράς ΓΔ. Το εμβαδόν του τριγώνου ΚΕΓ είναι:	4	6	8



		A	B	Γ
9	Το εμβαδόν του μπλε παραλληλογράμμου είναι:	5	4	8
10	Το εμβαδόν κάθε πράσινου τριγώνου είναι:	16	20	17,5



		A	B	Γ
11	Αν το εμβαδόν του παραλληλογράμμου ΑΒΕΔ είναι 12 cm^2 και το Ε είναι το μέσο της πλευράς ΓΔ, τότε το εμβαδόν του τραπεζίου ΑΒΓΔ είναι:	24	16	18

Εύχομαι επιτυχία στο στόχο σας!!!!!!