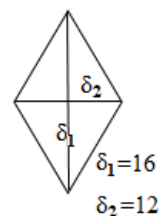
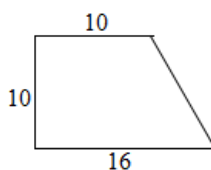
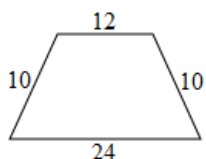
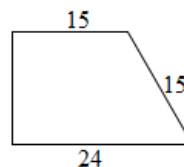
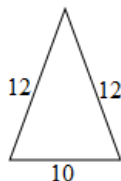
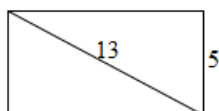


## 15' ΑΞΙΟΛΟΓΗΣΗ

στα

Μαθηματικά

Να υπολογίσετε το εμβαδόν και την περίμετρο των παρακάτω σχημάτων:



**Εύχομαι επιτυχία στο στόχο σας!!!!!!**