



ΕΛΛΗΝΙΚΗ ΔΗΜΟΚΡΑΤΙΑ

Υπουργείο Παιδείας,

Έρευνας και Θρησκευμάτων



ΠΕΡΙΦ/ΚΗ Δ/ΝΣΗ Α/ΘΜΙΑΣ & Β/ΘΜΙΑΣ
ΕΚΠ/ΣΗΣ ΘΕΣΣΑΛΙΑΣ
ΔΙΕΥΘΥΝΣΗ Β/ΘΜΙΑΣ ΕΚΠ/ΣΗΣ ΜΑΓΝΗΣΙΑΣ

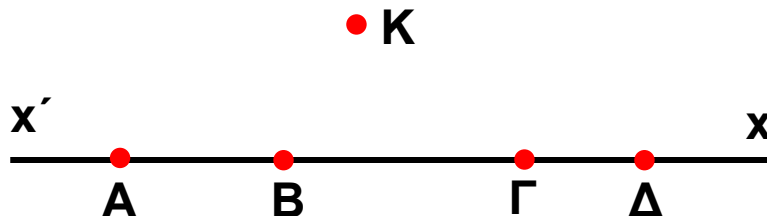
ΓΥΜΝΑΣΙΟ ΚΑΝΑΛΙΩΝ

ΩΡΙΑΙΑ ΑΞΙΟΛΟΓΗΣΗ

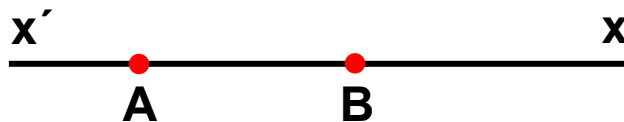
στα

Μαθηματικά

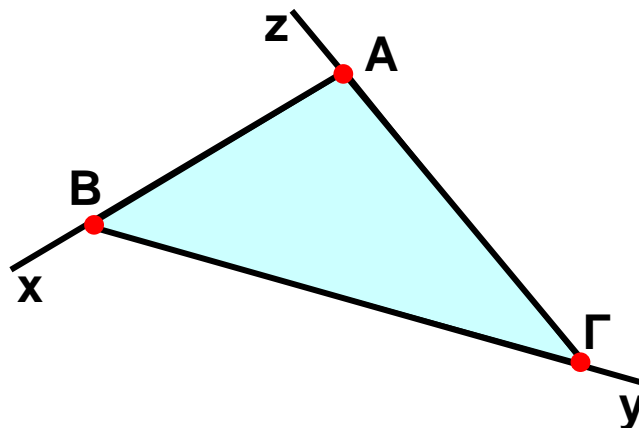
1. Πάρε τα σημεία A, B, Γ, Δ πάνω σε μια ευθεία και ένα σημείο K που δεν βρίσκεται στην παραπάνω ευθεία. Ένωσε το K με τα A, B, Γ, Δ και ονόμασε όλα τα ευθύγραμμα τμήματα του σχήματος.



2. Πάνω σε μια ευθεία $x'x$ παίρνουμε δύο σημεία A και B . Ονόμασε τις αντικείμενες ημιευθείες που έχουν αρχή το A και τις αντικείμενες ημιευθείες που έχουν αρχή το B .



3. Στο διπλανό σχήμα χάραξε τις αντικείμενες ημιευθείες των ημιευθειών ABx , $B\Gamma y$ και ΓAz .



Εύχομαι επιτυχία στο στόχο σας!!!!!!