



ΕΛΛΗΝΙΚΗ ΔΗΜΟΚΡΑΤΙΑ

Υπουργείο Παιδείας,

Έρευνας και Θρησκευμάτων



ΠΕΡΙΦ/ΚΗ Δ/ΝΣΗ Α/ΘΜΙΑΣ & Β/ΘΜΙΑΣ
ΕΚΠ/ΣΗΣ ΘΕΣΣΑΛΙΑΣ
ΔΙΕΥΘΥΝΣΗ Β/ΘΜΙΑΣ ΕΚΠ/ΣΗΣ ΜΑΓΝΗΣΙΑΣ

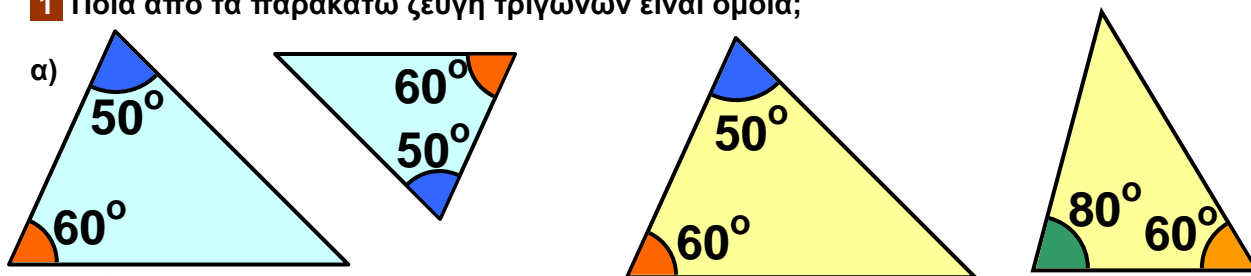
15' ΑΞΙΟΛΟΓΗΣΗ

στα

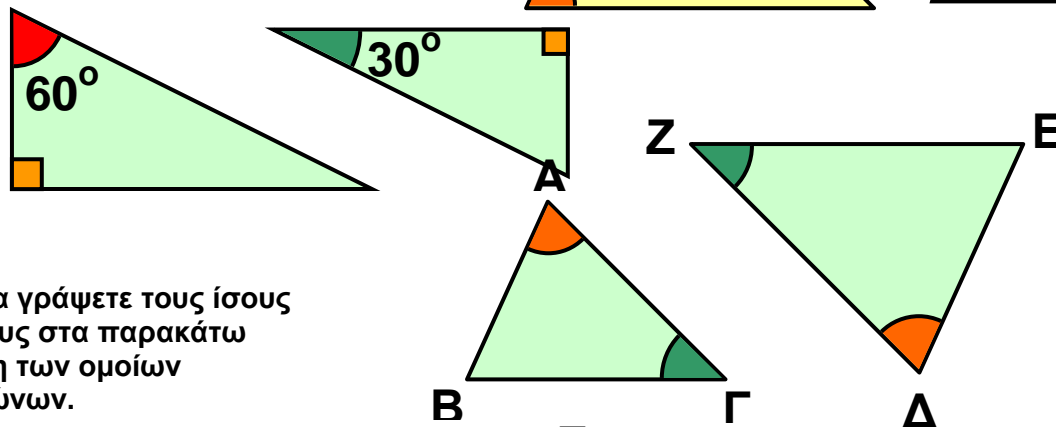
Μαθηματικά

ΓΥΜΝΑΣΙΟ ΚΑΝΑΛΙΩΝ

1 Ποια από τα παρακάτω ζεύγη τριγώνων είναι όμοια;



γ)



2 Να γράψετε τους ίσους λόγους στα παρακάτω ζεύγη των ομοίων τριγώνων.

α)

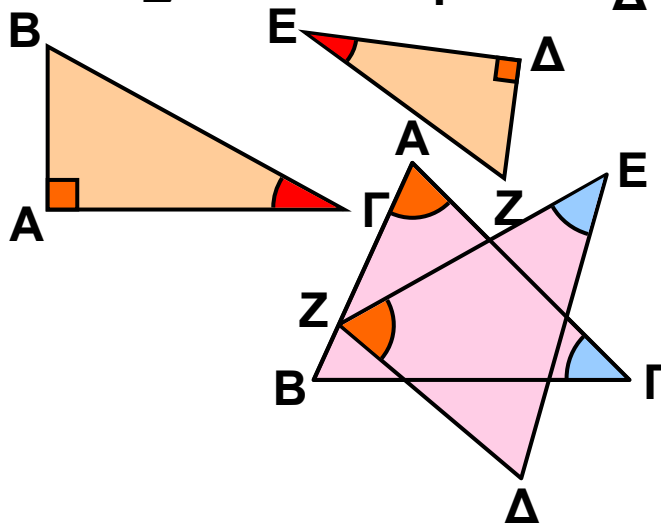
___ = ___ = ___

β)

___ = ___ = ___

γ)

___ = ___ = ___



Εύχομαι επιτυχία στο στόχο σας!!!!