



ΕΛΛΗΝΙΚΗ ΔΗΜΟΚΡΑΤΙΑ

Υπουργείο Παιδείας,

Έρευνας και Θρησκευμάτων



ΠΕΡΙΦ/ΚΗ Δ/ΝΣΗ Α/ΘΜΙΑΣ & Β/ΘΜΙΑΣ

ΕΚΠ/ΣΗΣ ΘΕΣΣΑΛΙΑΣ

ΔΙΕΥΘΥΝΣΗ Β/ΘΜΙΑΣ ΕΚΠ/ΣΗΣ ΜΑΓΝΗΣΙΑΣ

10λεπτη ΑΞΙΟΛΟΓΗΣΗ

στα

Μαθηματικά

1^ο ΓΕΝΙΚΟ ΛΥΚΕΙΟ ΒΟΛΟΥ

Ερωτήσεις αντιστοίχισης

1. * Να αντιστοιχίσετε σε κάθε γραφική παράσταση της στήλης Α τη γραφική παράσταση της αντίστροφής της από τη στήλη Β του πίνακα Ι, συμπληρώνοντας τον πίνακα ΙΙ.



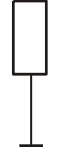


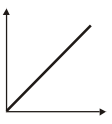
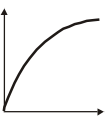
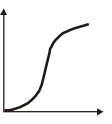
Πίνακας Ι

Στήλη Α	Στήλη Β
<p>1. </p>	<p>α. </p>
<p>2. </p>	<p>β. </p>
<p>3. </p>	<p>γ. </p>
<p>4. </p>	<p>δ. </p>
	<p>ε. </p>

Πίνακας ΙΙ

1	2	3	4

2. * Στην πρώτη σειρά του παρακάτω πίνακα I βρίσκονται τέσσερα ποτήρια τα οποία γεμίζουμε με σταθερή παροχή με νερό. Στη δεύτερη σειρά υπάρχουν οι γραφικές παραστάσεις του ύψους του νερού σε κάθε δοχείο συναρτήσει του χρόνου. Αντιστοιχίστε στο κάθε ποτήρι το κατάλληλο διάγραμμα συμπληρώνοντας τον πίνακα II.

Πίνακας I			
 1.	 2.	 3.	 4.
 α.	 β.	 γ.	 δ.

Πίνακας II			
1.	2.	3.	4.

Εύχομαι επιτυχία στον στόχο σας!!!!!!!!!!!!!!!