

Ασκήσεις εμπέδωσης




1. Μετατρέπω τα κλάσματα σε ποσοστά, τα γράφω με τους τρεις τρόπους και χρωματίζω ανάλογα τα πλέγματα της σελίδας:

	Κλάσμα	Εκατοστιαίο κλάσμα	Δεκαδικός αριθμός	Ποσοστό %
A	$\frac{1}{4}$
B	$\frac{3}{5}$
Γ	$\frac{7}{10}$

A

B

Γ



2. Βρίσκω με το νου το:

10% των 50 € 5% των 20 κιλών
 30% των 200 € 10% των 100 κιλών
 20% των 500 € 25% των 160 κιλών

3. Συμπληρώνω τους παρακάτω πίνακες, γράφοντας το συνολικό ποσοστό κέρδους, ζημίας, αύξησης ή έκπτωσης.

Αξία εμπορεύματος	Ποσοστό κέρδους		
	20%	30%	40%
500 €			
1000 €			
5000 €			
10000 €			
25000 €			
40000 €			

Αξία εμπορεύματος	Ποσοστό ζημίας		
	5%	15%	25%
500 €			
1000 €			
5000 €			
10000 €			
25000 €			
40000 €			