


# 1

Αντιστοίχισε:

- |         |                                |                                         |
|---------|--------------------------------|-----------------------------------------|
| 26,05 ● | ● 265 εκατοστά                 | ● $\frac{26}{100}$                      |
| 0,26 ●  | ● 26 εκατοστά                  | ● $\frac{265}{100}$ ή $2\frac{65}{100}$ |
| 2,65 ●  | ● 26 ακέραιες μονάδες και 5 εκ | ● $26\frac{5}{100}$                     |

# 2


Γράψε ποιος δεκαδικός αριθμός επαναλαμβάνεται:



1



.....



4,5

# 3

Συμπλήρωσε τους αριθμούς που λείπουν.

$$6\text{€} + 3,5\text{€} = \dots\text{€}$$

$$10\text{€} - 6,50\text{€} = \dots\text{€}$$

$$3\text{€} + 2,20\text{€} + 0,50\text{€} = \dots\text{€}$$

$$500\lambda. + 850\lambda. = \dots\text{€}$$



$$12\text{€} - \dots = 8,5\text{€}$$

$$2 \times \dots\text{€} = 8,5\text{€}$$

$$\dots\text{€} + \dots\text{€} = 8,5\text{€}$$

$$300\lambda + \dots\lambda = 8,5\text{€}$$

# 4

Σημειώνω Σ για το σωστό και Λ για το λάθος.



$1,4 = 1,40$  .....

$5 \text{ εκ.} = 0,5 \text{ μ.}$  .....

$1 \frac{2}{100} \text{ μ.} = 1,02 \text{ μ.}$  .....


$2,06 = 2,60$  .....

$500 \text{ γρ.} > 5 \text{ κ.}$  .....

$0,1\text{κ.} = 100 \text{ γρ.}$  .....

# 5

Μέτρησε με το χάρακά σου τις παρακάτω γραμμές. Ποια έχει το μεγαλύτερο μήκος;



Είναι ..... εκατοστά

Είναι ... εκατοστά

**Απάντηση:** .....

# 6

Η μητέρα έδωσε 5€ στη Βασιλική για να αγοράσει από το φούρνο ψωμί, γάλα, χυμό, γιαούρτι και τυρόπιτα. Οι τιμές τους ήταν:

|          |         |
|----------|---------|
| Ψωμί     | 60λ.    |
| Γιαούρτι | 0,80€   |
| Γάλα     | 1,50€   |
| Χυμός    | 1€ 40λ. |
| Τυρόπιτα | 1,50€   |

Φτάνουν τα χρήματά της για να τα πάρει όλα;

α) Εκτιμώ: .....

β) Αν ξόδεψε ακριβώς τα χρήματα που είχε πάνω της τι αγόρασε;

**Λύση:**

**Απάντηση:** .....

γ) Πόσα ρέστα θα έπαιρνε από 10€ αν τα αγόραζε όλα;

Εκτιμώ: .....

**Λύση:**

**Απάντηση:** .....