

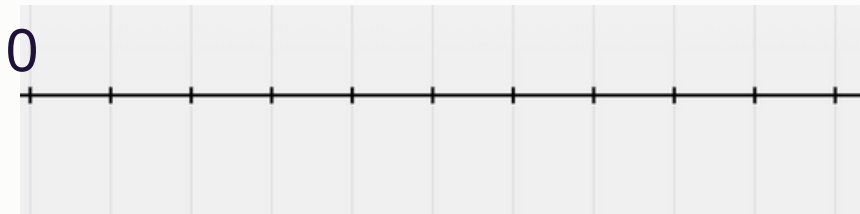
# Πώς τοποθετούμε κλάσματα πάνω σε αριθμογραμμή

## Ασκήσεις



Τοποθέτησε στην αριθμογραμμή το κλάσμα

$$\frac{3}{5}$$



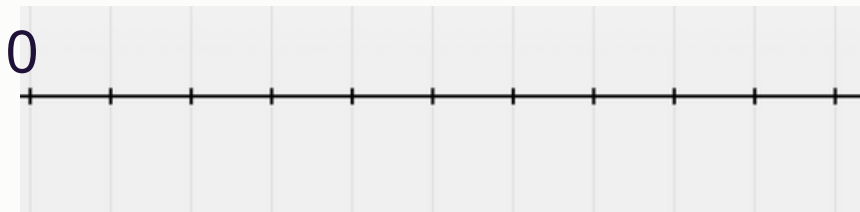
Τοποθέτησε στην αριθμογραμμή το κλάσμα

$$\frac{3}{4}$$



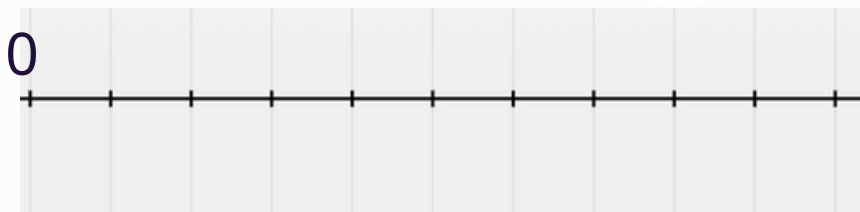
Τοποθέτησε στην αριθμογραμμή το κλάσμα

$$\frac{3}{6}$$



Τοποθέτησε στην αριθμογραμμή το κλάσμα

$$\frac{4}{5}$$



# Πώς τοποθετούμε κλάσματα πάνω σε αριθμογραμμή

## Ασκήσεις



Τοποθέτησε στην αριθμογραμμή το κλάσμα

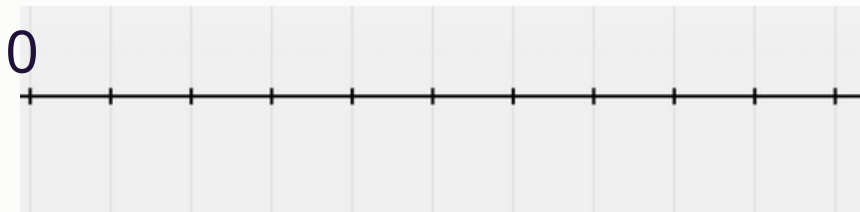
$$\frac{2}{8}$$



Τοποθέτησε στην αριθμογραμμή το κλάσμα



Τοποθέτησε στην αριθμογραμμή το κλάσμα



Τοποθέτησε στην αριθμογραμμή το κλάσμα

$$\frac{3}{4}$$

