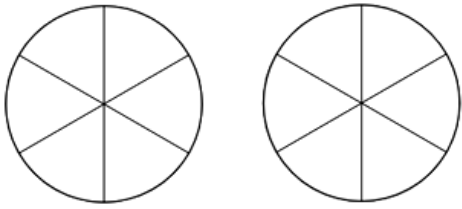
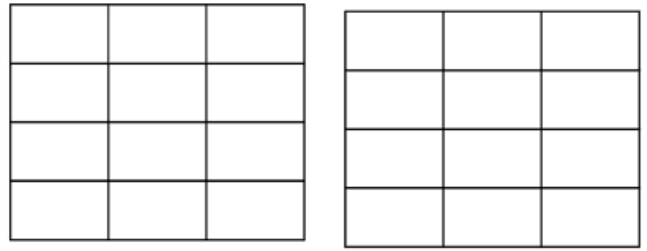


Σύγκριση κλασμάτων

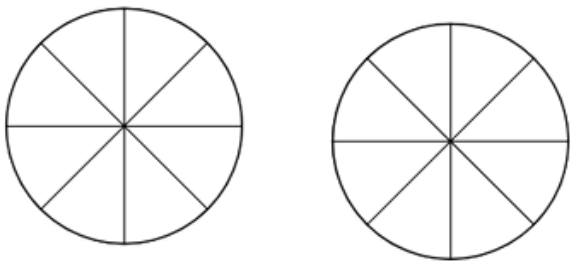
Χρωματίζω κατάλληλα τα σχήματα και τα συγκρίνω



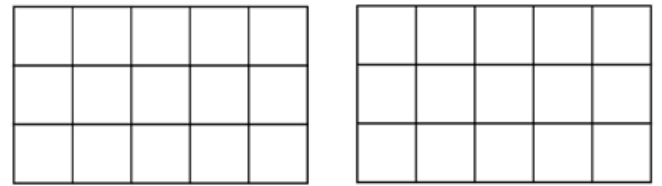
$$\frac{4}{6} \quad \frac{1}{3}$$



$$\frac{1}{2} \quad \frac{7}{12}$$



$$\frac{2}{8} \quad \frac{1}{4}$$



$$\frac{1}{2} \quad \frac{2}{15}$$

Βάζω σε αύξουσα σειρά τα κλάσματα

$$\frac{6}{12} \quad \frac{3}{12} \quad \frac{11}{12} \quad \frac{4}{12} \quad \frac{12}{12} \quad \frac{7}{12}$$



Βάζω σε αύξουσα σειρά τα κλάσματα

$$\frac{7}{10} \quad \frac{7}{12} \quad \frac{7}{2} \quad \frac{7}{20} \quad \frac{7}{15} \quad \frac{7}{4}$$

