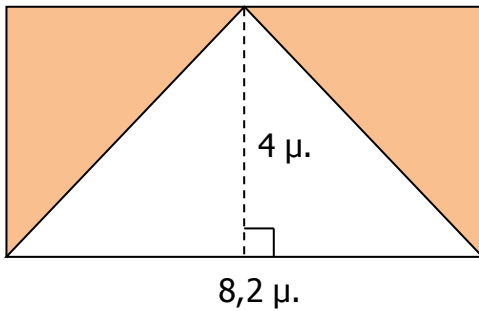


## Κεφ. 65°. Επανάληψη στα εμβαδά (1)

1. Να βρεις το εμβαδό του χρωματισμένου μέρους του παρακάτω σχήματος.



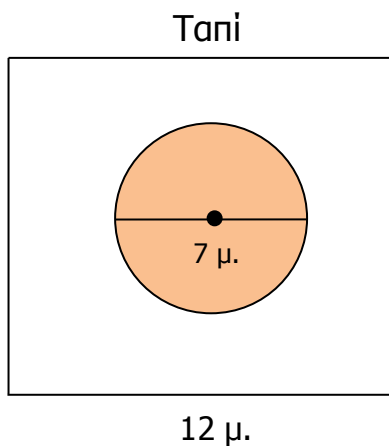
Απάντηση: \_\_\_\_\_

2. Να βρεις το εμβαδό του προαυλίου του σχολείου.



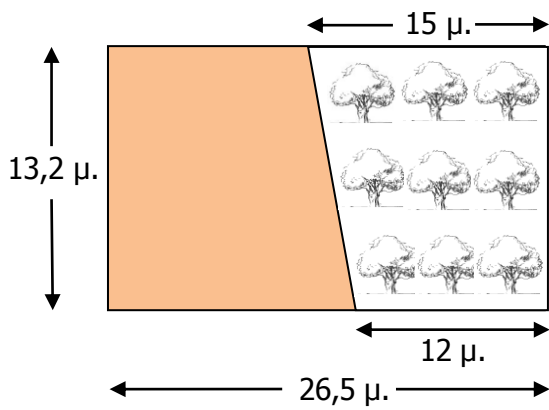
Απάντηση: \_\_\_\_\_

3. Στο παρακάτω σχήμα απεικονίζεται ο ειδικός ελαστικός τάπητας (ταπί) στον οποίο διεξάγονται αγώνες ελευθέρας πάλης. Πόσο είναι το εμβαδόν του χρωματισμένου χώρου;



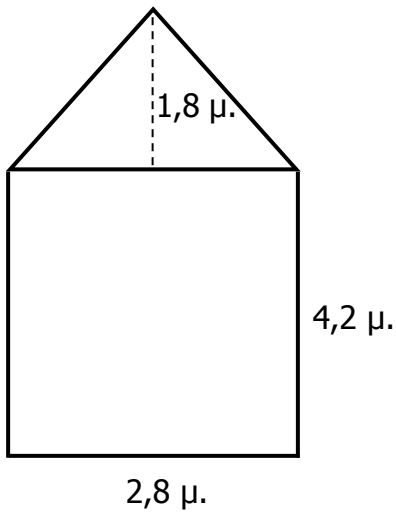
Απάντηση: \_\_\_\_\_

4. Να βρεις το εμβαδό του ακαλλιέργητου κτήματος που φαίνεται στο σχήμα.



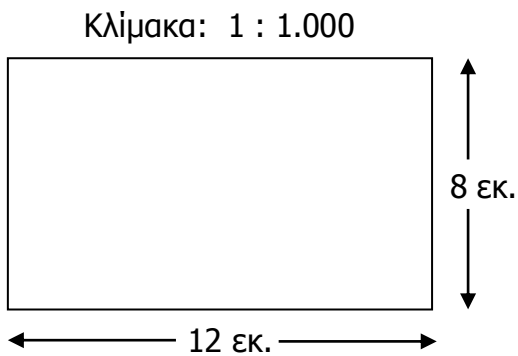
Απάντηση: \_\_\_\_\_

5. Να βρεις το συνολικό εμβαδό του παρακάτω σχήματος.



Απάντηση: \_\_\_\_\_

6. Το παρακάτω σχήμα απεικονίζει ένα κτήμα, το οποίο πουλήθηκε προς 5.000 € το στρέμμα. Πόσα ευρώ πουλήθηκε;



Απάντηση: \_\_\_\_\_