




Κεφ. 58°. Σχεδιάζω γωνίες (2)

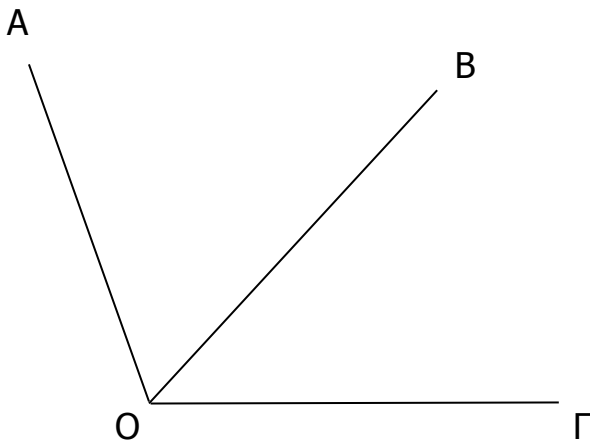
1. Να σχεδιάσεις μία γωνία 80° και μία 50° . Ύστερα να σχεδιάσεις μια καινούρια γωνία ίση με το άθροισμά τους:



2. Να σχεδιάσεις μία γωνία 30° και μία 100° . Ύστερα να σχεδιάσεις μια καινούρια γωνία ίση με τη διαφορά τους:



3. Στο παρακάτω σχήμα η γωνία $\widehat{B\hat{O}\Gamma}$ είναι 48° και η γωνία $\widehat{A\hat{O}\Gamma}$ είναι 105° . Πόσες μοίρες είναι η γωνία $\widehat{A\hat{O}B}$. Να χρησιμοποιήσεις το σύμβολο γ για τη γωνία $\widehat{A\hat{O}B}$, να σχηματίσεις εξίσωση και να τη λύσεις.



4. Να σχεδιάσεις μία γωνία ίση με τα $\frac{4}{5}$ της ορθής και μία άλλη ίση με το $1\frac{1}{5}$ της ορθής γωνίας.

Πράξη



Πράξη

