
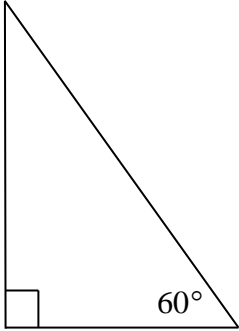
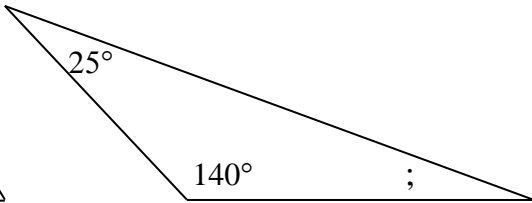
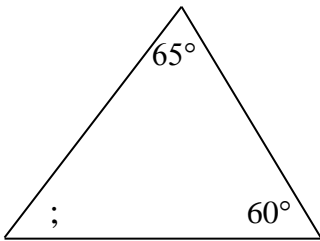


**Κεφ. 58°. Σχεδιάζω γωνίες (1)**

1. Να σχεδιάσεις μία γωνία 60° και μία 130°.




2. Να βρεις τις άγνωστες γωνίες των παρακάτω τριγώνων, σχηματίζοντας εξίσωση και λύνοντάς την.



<hr/> <hr/> <hr/> <hr/>	<hr/> <hr/> <hr/> <hr/>	<hr/> <hr/> <hr/> <hr/>
-------------------------	-------------------------	-------------------------

3. Να βρεις τις άγνωστες γωνίες των παρακάτω τετράπλευρων, σχηματίζοντας εξίσωση και λύνοντάς την.

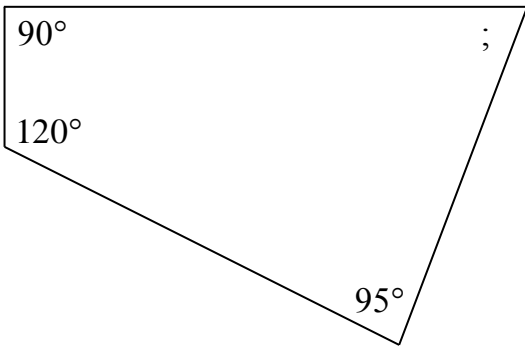


---

---

---

---



---

---

---

---