

ΔΡΑΣΤΗΡΙΟΤΗΤΑ ΣΤΗΝ ΙΣΤΟΡΙΑ**ΤΑΞΗ Στ΄**

Μάθημα: Ιστορία

Κεφάλαια: 18 Η Επανάσταση αρχίζει από τη Μολδοβλαχία

19 Η Επανάσταση εξαπλώνεται

Άμεσος στόχος: Να παρατηρήσουν και να εξερευνήσουν ιστορικό χάρτη, να αναζητήσουν, να ανακαλέσουν, να επιλέξουν και να καταγράψουν τις πληροφορίες που σχετίζονται με την Ελληνική Επανάσταση.

Έμμεσος στόχος: Να γνωρίσουν και να ασκηθούν οι μαθητές στη χρήση του λογισμικού Centenia

Λογισμικό: Ιστορικός Χάρτης Centennia, Browser (internet explorer)

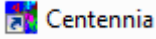
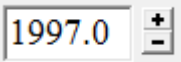
Προηγούμενες γνώσεις: Οι μαθητές έχουν εργαστεί ήδη στο βιβλίο τους και στο τετράδιο εργασιών στα δύο προηγούμενα κεφάλαια.

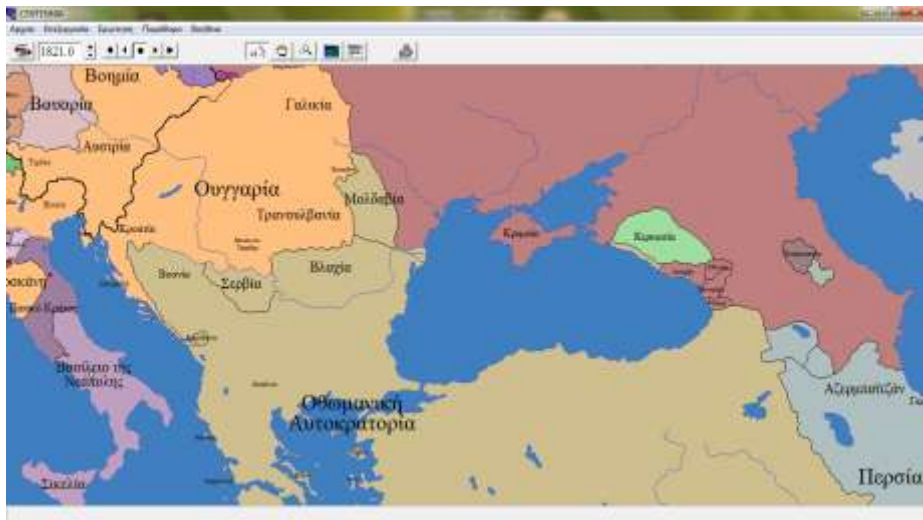
Οι μαθητές δεν έχουν εργασθεί ξανά με το λογισμικό Centenia.

Απαιτούμενος χρόνος: 2 διδακτικές ώρες


Οι μαθητές εργάζονται σε τέσσερις (4) ομάδες των τριών (3) ατόμων στην αίθουσα υπολογιστών.


Φύλλο εργασίας 1

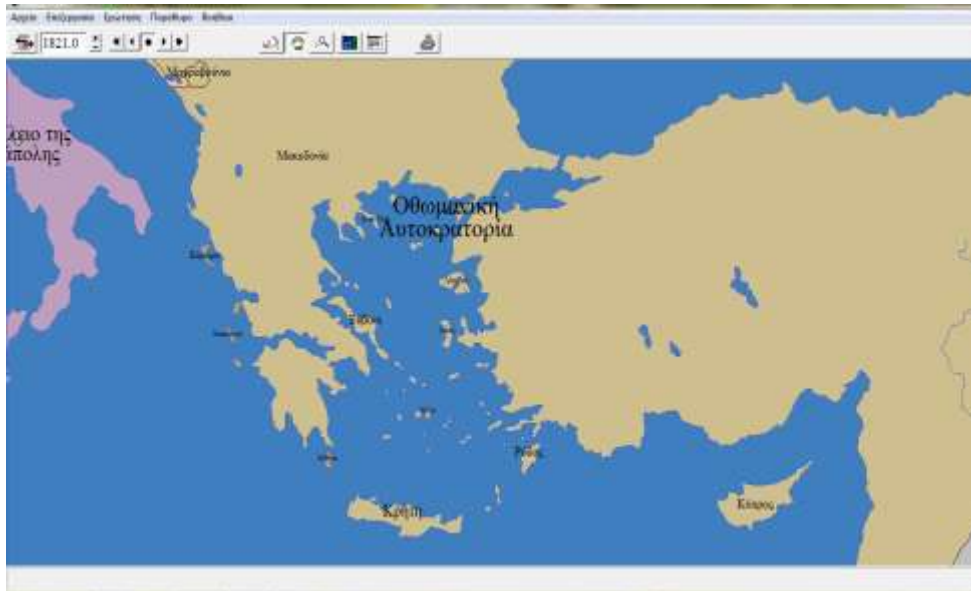
- Ανοίξτε με διπλό κλικ το εικονίδιο  Centennia που βρίσκεται στην επιφάνεια εργασίας και εκτελέστε το πρόγραμμα Centennia
- Στην επάνω γραμμή εργαλείων θα βρείτε το πλαίσιο χρονολογίας . Τοποθετήστε τον κέρσορα μέσα στο πλαίσιο, σβήστε την αναγραφόμενη ημερομηνία, πληκτρολογήστε την ημερομηνία 1821 και πατήστε enter. Θα εμφανιστεί η αντίστοιχη σελίδα




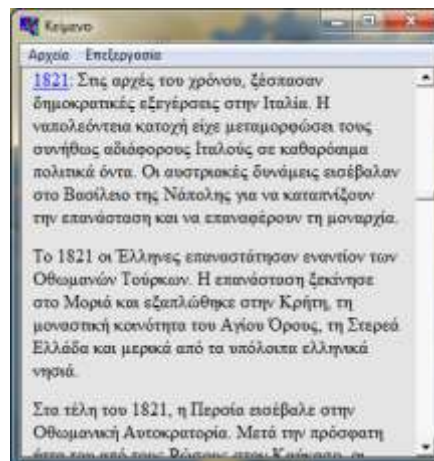
Τι σας έρχεται στο μυαλό βλέποντας αυτό το χάρτη; Πώς σχετίζεται η Ελλάδα με την Οθωμανική Αυτοκρατορία;

- Από τη γραμμή εργαλείων επιλέξτε το εικονίδιο  (μετακίνηση του χάρτη) και με αριστερό κλικ μετακινήστε το χάρτι σας (δεξιά, αριστερά, πάνω, κάτω), έτσι ώστε να έχετε πιο ολοκληρωμένη εικόνα της Οθωμανικής Αυτοκρατορίας.

- Με το εικονίδιο  (ζουμ) και αριστερό κλικ μικρύνετε την κλίμακα του χάρτη, έτσι ώστε να δείτε όλες τις περιοχές-χώρες που καταλαμβάνει η Οθωμανική Αυτοκρατορία. Κατόπιν με αριστερό κλικ μεγαλώστε την κλίμακα του χάρτη και εντοπίστε-εστίαστε στην περιοχή της Ελλάδας (με τα σημερινά γεωγραφικά σύνορα), ώστε να βλέπετε περίπου την παρακάτω περιοχή.




- Από τη γραμμή εργαλείων επιλέξτε το εικονίδιο . Εμφανίζεται μία καρτέλα με ιστορικές πληροφορίες που αναφέρονται στη χρονολογία 1821



- Εντοπίστε και διαβάστε τις πληροφορίες- γεγονότα που αναφέρονται στην Ελληνική Επανάσταση και ανακαλέστε στη μνήμη σας όσα μάθατε στα δύο τελευταία κεφάλαια της Ιστορίας.
- Κατόπιν, εξασκηθείτε σε ερωτήσεις αντιστοίχισης και στο σταυρόλεξο που υπάρχουν στην επιφάνεια εργασίας.

Δραστηριότητα 2

- Στην επιφάνεια εργασίας εντοπίστε το αντίστοιχο εικονίδιο με τίτλο άσκηση κουίζ





και με διπλό κλικ ανοίξετε την άσκηση.

Θα εμφανιστεί η παρακάτω σελίδα



- Διαβάστε προσεκτικά μία μία τις ερωτήσεις και επιλέξτε μία από τις τέσσερις πιθανές απαντήσεις.
- Αφού απαντήσετε και ελέγχετε για την ορθότητα των απαντήσεών σας ,επιστρέψτε στην επιφάνεια εργασίας .

- Στην επιφάνεια εργασίας θα βρείτε το εικονίδιο με τίτλο σταυρόλεξο  . Κάνοντας διπλό κλικ ανοίξετε το αρχείο.



- Συμπληρώστε το σταυρόλεξο κάνοντας κάθε φορά κλικ σε κάθε αριθμό ξεχωριστά.
- Αφού το συμπληρώσετε, κλείστε τη σελίδα και αξιολογήστε με την ομάδα σας τις δραστηριότητες.

Σας άρεσαν οι δραστηριότητες; Δυσκολευτήκατε σε κάποια από αυτές;

Ποια δραστηριότητα σας άρεσε περισσότερο και γιατί;

Παρατηρήσεις:

Η αξιολόγηση γινόταν καθόλη τη διάρκεια των δραστηριοτήτων, καθώς η εκπαιδευτικός είχε συμβουλευτικό και καθοδηγητικό ρόλο. Δεν παρουσιάστηκαν δυσκολίες από την πλευρά των μαθητών.