



Μαθαίνω τους αριθμούς

Γράφω πόσες αστεράκια είναι σε κάθε κουτάκι:



Συμπληρώνω τους αριθμούς που λείπουν:

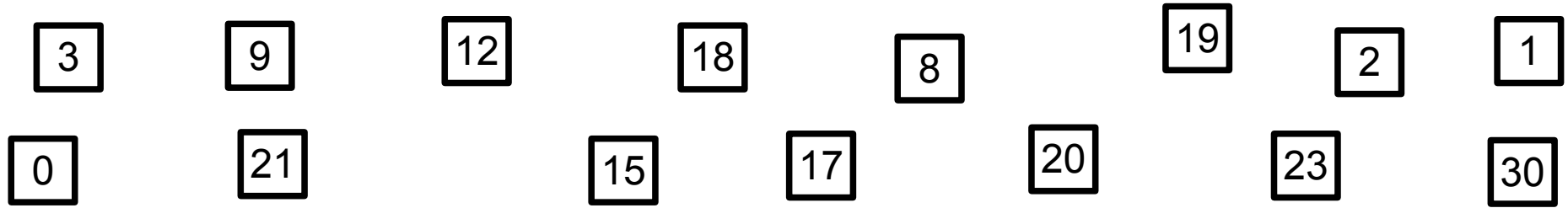
10	11	12		14		16			19	20			24			27			30
----	----	----	--	----	--	----	--	--	----	----	--	--	----	--	--	----	--	--	----

40	39	38		36		34			31			28		26			23			20
----	----	----	--	----	--	----	--	--	----	--	--	----	--	----	--	--	----	--	--	----

0	2			8		12			18			24		28			34			40
---	---	--	--	---	--	----	--	--	----	--	--	----	--	----	--	--	----	--	--	----


50	48		44		40			34	32				24				18			12	10
----	----	--	----	--	----	--	--	----	----	--	--	--	----	--	--	--	----	--	--	----	----

Βάζω στη σειρά τους παρακάτω αριθμούς, ξεκινώντας από το μικρότερο:




___ < ___ < ___ < ___ < ___ < ___ < ___ < ___ < ___ < ___ < ___ < ___ < ___ < ___


Κάνω τις προσθέσεις:




$$\underline{\quad} + \underline{\quad} = \underline{\quad}$$



$$\underline{\quad} + \underline{\quad} = \underline{\quad}$$



$$\underline{\quad} + \underline{\quad} = \underline{\quad}$$



$$\underline{\quad} + \underline{\quad} = \underline{\quad}$$

Λογαριάζω με το νου:

$$4 + 0 = \underline{\quad}$$

$$2 + 7 = \underline{\quad}$$

$$1 + 8 = \underline{\quad}$$

$$3 + 3 = \underline{\quad}$$

$$1 + 4 + 1 = \underline{\quad}$$

$$5 + 2 + 1 = \underline{\quad}$$

$$1 + 5 + 3 = \underline{\quad}$$

$$2 + 5 + 2 = \underline{\quad}$$

$$20 - 8 = \underline{\quad}$$

$$20 - 6 = \underline{\quad}$$

$$20 - 4 = \underline{\quad}$$

$$20 - 7 = \underline{\quad}$$

$$20 - 5 = \underline{\quad}$$

$$20 - 6 = \underline{\quad}$$

$$20 - 3 = \underline{\quad}$$

$$20 - 20 = \underline{\quad}$$

$$20 + 8 = \underline{\quad}$$

$$20 + 7 = \underline{\quad}$$

$$20 + 1 = \underline{\quad}$$

$$20 + 3 = \underline{\quad}$$