
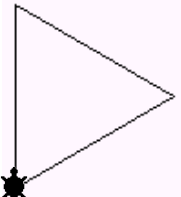
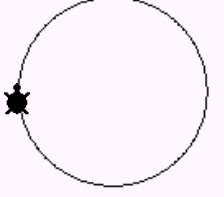
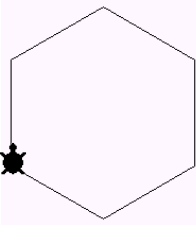




- ΕΝΤΟΛΗ: ΕΠΑΝΑΛΑΒΕ
- ΔΙΑΔΙΚΑΣΙΕΣ

Δραστηριότητα 1: Γράψτε και δοκιμάστε τις παρακάτω διαδικασίες

Τετράγωνο	Τρίγωνο	Κύκλος
για τετράγωνο σικ επανάλαβε 4 [μπ 100 δε 90] στα τέλος	για τρίγωνο σικ επανάλαβε 3 [μπ 100 δε 120] στα τέλος	για κύκλος σικ επανάλαβε 360 [μπ 1 δε 1] στα τέλος
		

Δραστηριότητα 2: Δημιουργήστε διαδικασίες που να σχεδιάζουν τα παρακάτω σχήματα:

Εξάγωνο (πλευρά 100)	Ορθογώνιο (πλευρές 50, 100)	Ημικύκλιο
		
Σκάλα (πλευρά 100)	Ακτίνες (Μήκος ακτίνας 100)	Σταυρός (πλευρά 100)
