
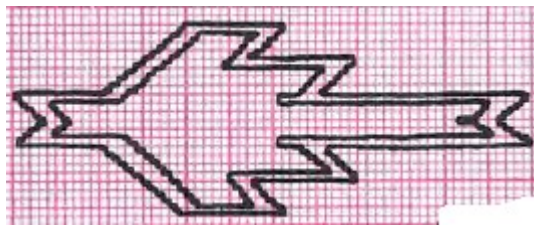


«Παραδοσιακά σχέδια στην υφαντική»

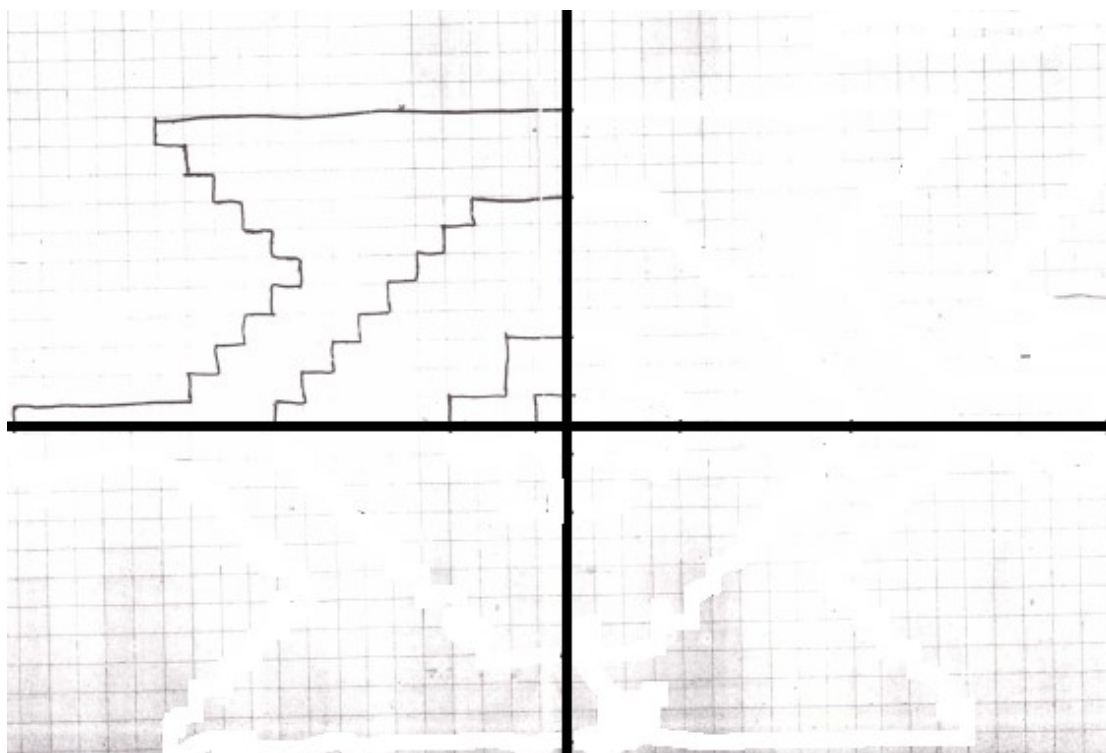
1^η Δραστηριότητα:

Στα παραδοσιακά σχέδια που υπάρχουν στα υφαντά χαλιά πολύ συχνά εμφανίζονται σχέδια με συμμετρία. Σχεδιάσε με έντονο κόκκινο χρώμα τους άξονες συμμετρίας των παρακάτω τεσσάρων σχεδίων.



2^η Δραστηριότητα:

Το παρακάτω σχέδιο έχει δύο άξονες συμμετρίας, τις δύο ευθείες που είναι σχεδιασμένες. Συμπλήρωσε ολόκληρο το σχέδιο.



3^η Δραστηριότητα:

Αντίγραψε στο τετραγωνισμένο χαρτί το παρακάτω σχέδιο και στη συνέχεια χρωμάτισέ το.

