

## Φύλλο Εργασίας

### Παγκόσμιος Ιστός: Γνωρίζω τους φυλλομετρητές και τους υπερσυνδέσμους

Όνομα:

Επώνυμο:

#### Δραστηριότητα 1<sup>η</sup> :

##### Βήμα 1<sup>ο</sup>:

Εντοπίστε στην οθόνη του υπολογιστή σας το εικονίδιο του φυλλομετρητή Google Chrome. Μετακινήστε το δείκτη του ποντικιού εκεί και πατήστε 2 φορές το αριστερό πλήκτρο

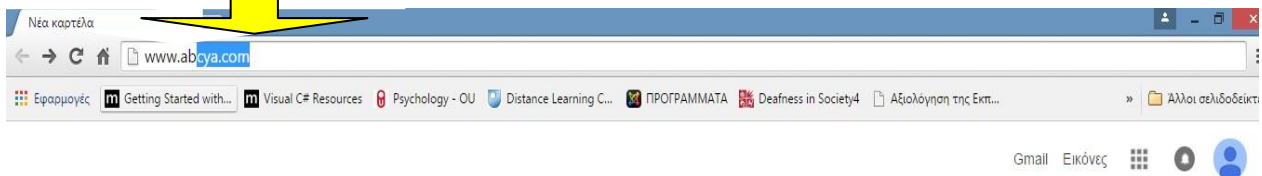


Εικονίδιο φυλλομετρητή  
διαδικτύου Google  
Chrome



##### Βήμα 2<sup>ο</sup>:

Γραμμή διευθύνσεων



Google  
Ελλάδα

Αναζητήστε στο Google ή πληκτρολογήστε διεύθυνση URL

Εντοπίστε τη γραμμή διευθύνσεων στο φυλλομετρητή σας και πληκτρολογήστε τη διεύθυνση: [www.youtube.com](http://www.youtube.com)



**Δραστηριότητα 2<sup>η</sup> :** Να επισκεφθείτε τις διευθύνσεις που δίνονται στον παρακάτω πίνακα με τη σειρά και να βρείτε ποια είναι η σωστή πληροφορία για την κάθε μία.

Διευθύνσεις	Πληροφορία
www.youtube.com	
saferinternet4kids.gr	
ebooks.edu.gr	

### ΠΛΗΡΟΦΟΡΙΕΣ:

- Εδώ βλέπουμε βίντεο και ακούμε μουσική,
- Όλα τα σχολικά μας βιβλία είναι εδώ,
- Ασφαλές διαδίκτυο

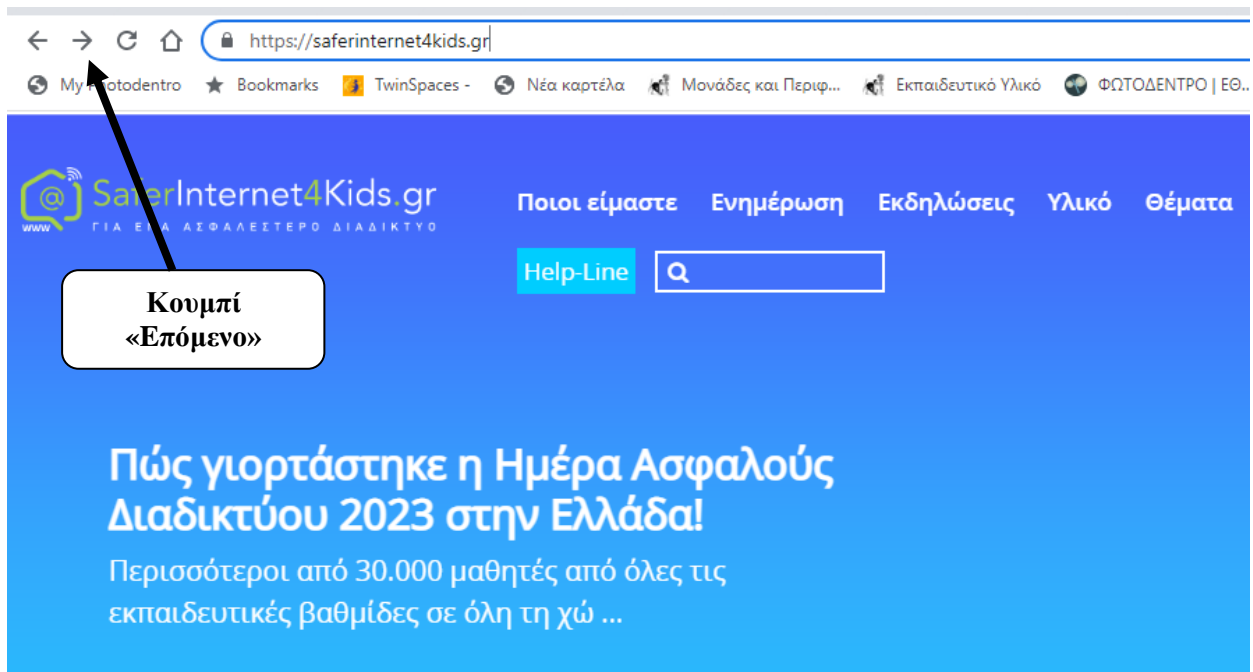
**Δραστηριότητα 3<sup>η</sup> :**

**Βήμα 1<sup>ο</sup>:** Πατήστε με το ποντίκι σας, στο φυλλομετρητή το κουμπί «Προηγούμενο», όπως φαίνεται στην παρακάτω εικόνα:



Α. Σημειώστε ποια διεύθυνση εμφανίζει τώρα ο φυλλομετρητής:

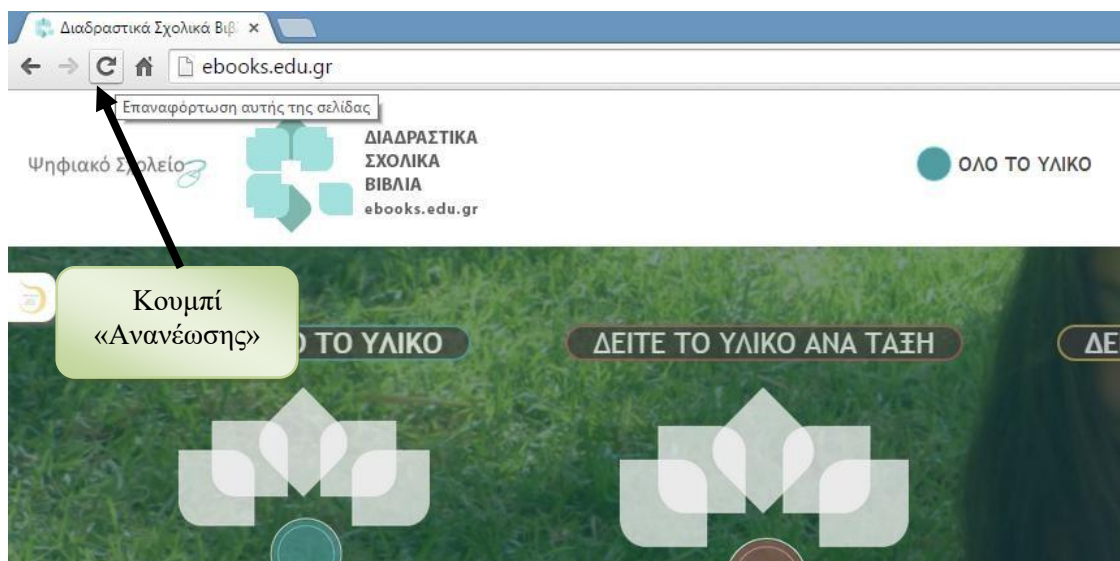
**Βήμα 2<sup>ο</sup>:** Πατήστε με το ποντίκι σας, στο φυλλομετρητή το κουμπί «**Επόμενο**», όπως φαίνεται στην παρακάτω εικόνα:



Β. Σημειώστε ποια διεύθυνση εμφανίζει τώρα ο φυλλομετρητής:

.....

**Βήμα 3<sup>ο</sup>:** Πατήστε με το ποντίκι σας, στο φυλλομετρητή το κουμπί «**Ανανέωση**», όπως φαίνεται στην παρακάτω εικόνα



Γ. Σημειώστε ποια διεύθυνση εμφανίζει τώρα ο φυλλομετρητής:

.....

#### Δραστηριότητα 4<sup>η</sup>

A) Μετακινήστε το δείκτη του ποντικιού πάνω στο παρακάτω κείμενο και πατήστε το αριστερό πλήκτρο:

[www.youtube.com](http://www.youtube.com)

Τι συμβαίνει μετά το πάτημα με το ποντίκι; .....

B) Επαναλάβετε το ίδιο στο παρακάτω κείμενο:

[www.youtube.com](http://www.youtube.com)

Τι συμβαίνει τώρα; Το ίδιο κείμενο λειτουργεί διαφορετικά αυτή τη φορά;.....


**Το δεύτερο κείμενο ονομάζεται υπερσύνδεσμος.**

Γ) Σημειώστε τα ιδιαίτερα χαρακτηριστικά στη μορφή (εμφάνιση) του δεύτερου κειμένου που λειτουργεί ως υπερσύνδεσμος:

Δ) Σημειώστε τη μορφή που παίρνει ο δείκτης του ποντικιού όταν βρίσκεται πάνω στον υπερσύνδεσμο:


#### Δραστηριότητα 5<sup>η</sup>

A) Μετακινήστε το δείκτη του ποντικιού πάνω στην παρακάτω εικόνα και πατήστε το αριστερό πλήκτρο:



Τι συμβαίνει μετά το πάτημα με το ποντίκι;  
.....  
.....

B) Επαναλάβετε το ίδιο στην παρακάτω εικόνα:



Τι συμβαίνει τώρα; η ίδια εικόνα λειτουργεί διαφορετικά αυτή τη φορά;  
.....  
.....

**Η δεύτερη εικόνα λειτουργεί ως υπερσύνδεσμος**

Γ) Σημειώστε τη μορφή που παίρνει ο δείκτης του ποντικιού όταν βρίσκεται πάνω στον υπερσύνδεσμο: