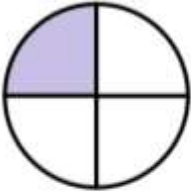











## Μαθηματικά Γ Τάξης









Διαβάζω από το βιβλίο τα Κεφ.22 και 23 <http://ebooks.edu.gr/>

Ασκήσεις:

1<sup>η</sup> Γράψε τι μέρος του κύκλου είναι χρωματισμένο.

Εισαγωγή στα Κλάσματα			
	$\frac{1}{4}$		—
	—		—
	—		—
	—		—
	—		—

2<sup>η</sup> Κύκλωσε το σωστό κλάσμα για το χρωματισμένο μέρος των σχημάτων.

1)		$\frac{1}{2}$	$\frac{3}{6}$	$\frac{5}{6}$	$\frac{1}{6}$	$\frac{6}{5}$
2)		$\frac{1}{4}$	$\frac{3}{4}$	$\frac{1}{6}$	$\frac{1}{3}$	$\frac{1}{5}$
3)		$\frac{1}{2}$	$\frac{3}{8}$	$\frac{1}{6}$	$\frac{1}{7}$	$\frac{6}{8}$
4)		$\frac{1}{3}$	$\frac{3}{6}$	$\frac{1}{2}$	$\frac{1}{5}$	$\frac{1}{4}$
5)		$\frac{4}{6}$	$\frac{5}{6}$	$\frac{4}{5}$	$\frac{1}{6}$	$\frac{3}{5}$
6)		$\frac{1}{3}$	$\frac{1}{4}$	$\frac{1}{2}$	$\frac{1}{5}$	$\frac{2}{1}$
7)		$\frac{1}{2}$	$\frac{3}{4}$	$\frac{5}{6}$	$\frac{1}{4}$	$\frac{4}{3}$
8)		$\frac{1}{6}$	$\frac{2}{3}$	$\frac{3}{3}$	$\frac{1}{3}$	$\frac{2}{5}$

3<sup>η</sup> Κάνε τις δραστηριότητες



#### ΕΠΙΣΗΜΑΝΣΗ

Το άνοιγμα συνδέσμων που οδηγούν σε εξωτερικό περιεχόμενο δεν υπάγεται στη μηδενική χρέωση.

<http://inschool.gr/G3/MATH/KLASMATA-MONADES-PRAC-G3-MATH-MYtriviaGROR-1405031338-tzortzisk/index.html>  
<http://inschool.gr/G3/MATH/KLASMATA-MONADES-PRAC-G3-MATH-MYmatchB-1405012202-tzortzisk/index.html>