



## Μαθηματικά Γ Τάξης

### Ισοδύναμα κλάσματα

1. Γράψε με κλάσμα τι μέρος του σχήματος είναι χρωματισμένο. Βρες τα ισοδύναμα κλάσματα και γράψε τις ισότητες.



—



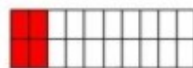
—




—



—




—



—



—



—



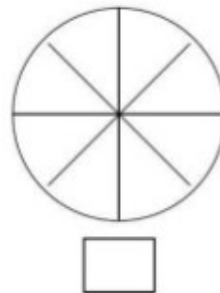
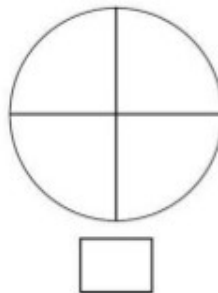
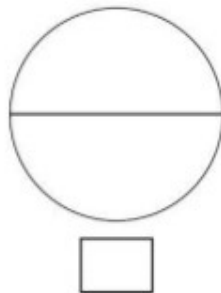
—

α. — = — = —

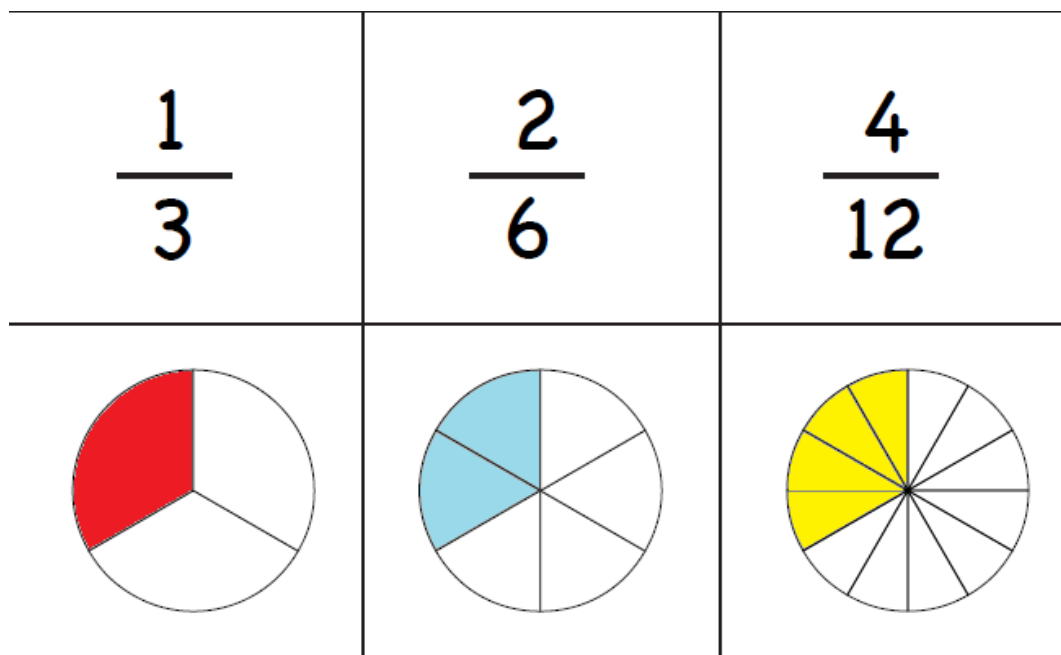
β. — = — = —

γ. — = — = —

2. Οι τρεις πίτσες είναι κομμένες με διαφορετικό τρόπο. Θέλουμε όμως τη μισή πίτσα από κάθε πίτσα. Να χρωματίσεις το μισό κάθε πίτσας.



2. Συμπλήρωσε στα κουτάκια τον σωστό αριθμό για να είναι ισοδύναμα τα κλάσματα.



$\frac{1}{3} = \frac{\square}{6}$	$\frac{2}{6} = \frac{\square}{3}$	$\frac{4}{12} = \frac{\square}{3}$
$\frac{1}{3} = \frac{\square}{12}$	$\frac{2}{6} = \frac{\square}{12}$	$\frac{4}{12} = \frac{\square}{6}$