























$1 + 1 =$ <input type="text"/>		
$2 + 2 =$ <input type="text"/>		
$3 + 3 =$ <input type="text"/>		
$4 + 4 =$ <input type="text"/>		
$5 + 5 =$ <input type="text"/>		
$6 + 6 =$ <input type="text"/>		
$7 + 7 =$ <input type="text"/>		
$8 + 8 =$ <input type="text"/>		
$9 + 9 =$ <input type="text"/>		
$10 + 10 =$ <input type="text"/>		
$11 + 11 =$ <input type="text"/>		

Οι αριθμοί μέχρι το 20- γνωστά  
αθροίσματα



## Παιχνίδια με τους αριθμούς!

Μήπως ξέρεις περισσότερα από αυτά που νομίζεις;

Παρατήρησε τον πίνακα και ανακάλυψε τα γνωστά σου αθροίσματα και σε άλλες δεκάδες.

$$3 + 4 = 7 \rightarrow 13 + 4 = 17$$

Σειρά σου! Το μόνο που χρειάζεται να κάνεις είναι να αλλάξεις τη δεκάδα!

1	2	3	4	5	6	7	8	9	10
11	12	13	14	15	16	17	18	19	20
21	22	23	24	25	26	27	28	29	30
31	32	33	34	35	36	37	38	39	40
41	42	43	44	45	46	47	48	49	50
51	52	53	54	55	56	57	58	59	60
61	62	63	64	65	66	67	68	69	70
71	72	73	74	75	76	77	78	79	80
81	82	83	84	85	86	87	88	89	90
91	92	93	94	95	96	97	98	99	100

1. Κάνε τις πράξεις, με τη βοήθεια γνωστών αθροισμάτων και του του πίνακα.

$3 + 5 =$	$13 + 5 =$
$3 + 4 =$	$13 + 4 =$
$7 + 2 =$	$17 + 2 =$
$5 + 4 =$	$15 + 4 =$
$3 + 6 =$	$13 + 6 =$
$2 + 7 =$	$12 + 7 =$

$4 + 5 =$	$24 + 5 =$
$6 + 2 =$	$26 + 2 =$
$3 + 5 =$	$33 + 5 =$
$2 + 6 =$	$42 + 6 =$
$4 + 4 =$	$54 + 4 =$
$5 + 2 =$	$75 + 2 =$

2. Κάνε τις πράξεις, με τη βοήθεια γνωστών αθροισμάτων και του του πίνακα.

$6 + 5 =$	$16 + 5 =$
$8 + 9 =$	$18 + 9 =$
$7 + 8 =$	$17 + 8 =$
$5 + 8 =$	$15 + 8 =$
$8 + 6 =$	$18 + 6 =$
$5 + 7 =$	$15 + 7 =$

$4 + 8 =$	$24 + 8 =$
$6 + 7 =$	$26 + 7 =$
$7 + 5 =$	$37 + 5 =$
$7 + 6 =$	$47 + 6 =$
$9 + 4 =$	$59 + 4 =$
$5 + 9 =$	$75 + 9 =$

Η Α και Β τάξη να λύσει μόνο την άσκηση 1 και  
Γ τάξη και τις 2 ασκήσεις