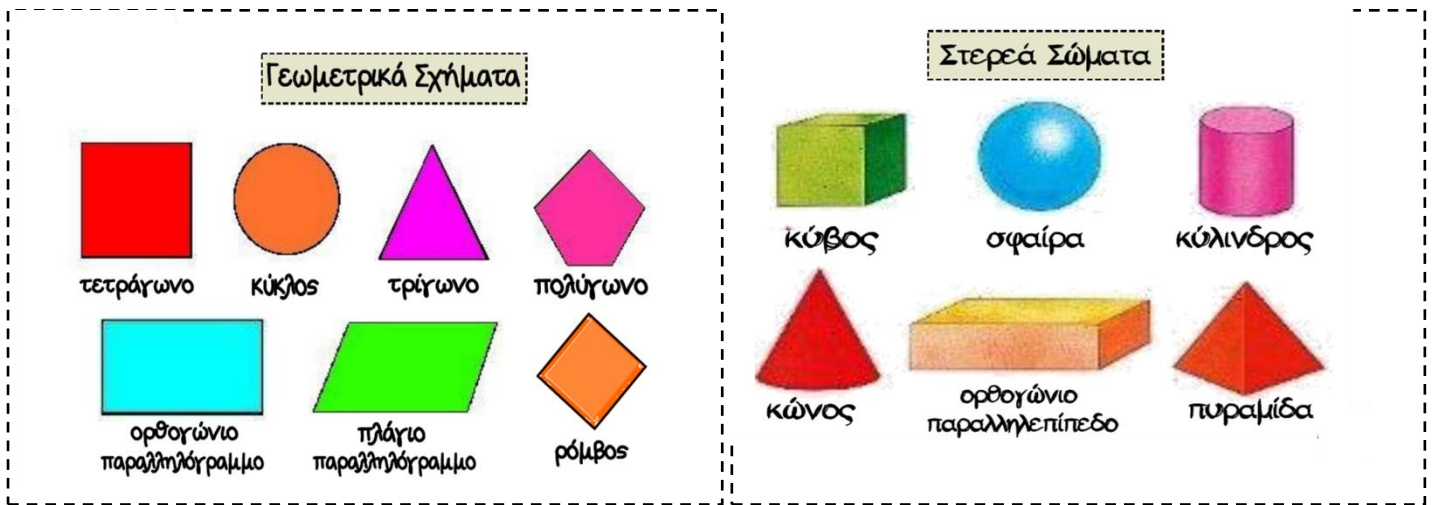
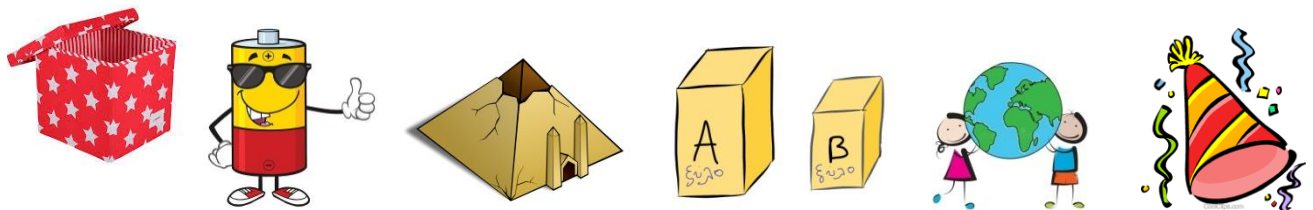


Γεωμετρικά σχήματα και γεωμετρικά στερεά



1. Οι παρακάτω εικόνες με τι γεωμετρικό στερεό μοιάζουν;




.....

2. Με τι γεωμετρικό σχήμα μοιάζουν οι παρακάτω εικόνες;



.....

3. Παρατηρώ προσεκτικά την εικόνα και βρίσκω όσο γίνεται περισσότερα:



Τετράγωνα

Τρίγωνα

Ορθογώνια παραλληλόγραμμα

4. Σχεδιάζω με χάρακα: α) ένα τετράγωνο ΑΒΓΔ που έχει πλευρά 3 εκ.,
β) ένα ορθογώνιο παραλληλόγραμμο ΕΖΗΘ που η μια πλευρά είναι 3 εκ.
και η άλλη 6 εκ.
Κάθε τετραγωνάκι έχει πλευρά 1εκ.

