

Μάθημα 25

1) Διάβασε τα ονόματα και γράψε τους αριθμούς.

τριάντα ένα

πενήντα

σαράντα έξι

σαράντα οκτώ

είκοσι δύο

δεκαεπτά

δεκατέσσερα

τριάντα τρία

2) Ποιοι αριθμοί λείπουν σε κάθε σειρά;

	16		
--	----	--	--

	40		
--	----	--	--

		30	
--	--	----	--

		23	
--	--	----	--

38			
----	--	--	--

19			
----	--	--	--

3) Κύκλωσε τις Μονάδες των αριθμών, όπως το παράδειγμα:

16

40

23

32

18

43

38

19

20

4) Συμπλήρωσε όπως το παράδειγμα:

2Δ και 3Μ \longrightarrow $10 + 10 + 3$ \longrightarrow 23

4Δ και 2Μ \longrightarrow \longrightarrow


5Δ και 0Μ \longrightarrow \longrightarrow

4Δ και 6Μ \longrightarrow \longrightarrow


2Δ και 8Μ \longrightarrow \longrightarrow

3Δ και 7Μ \longrightarrow \longrightarrow

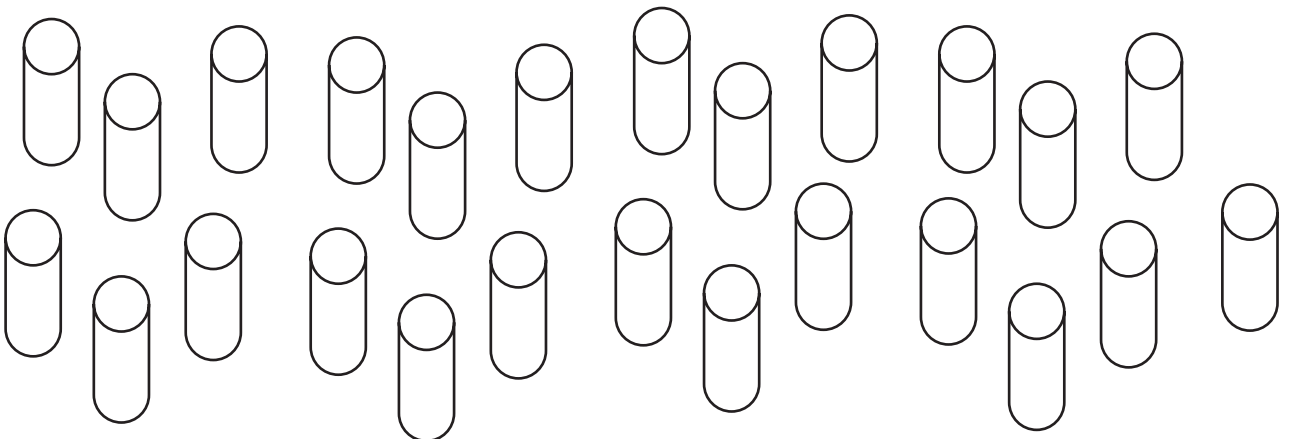
5) Δημιούργησε Δεκάδες και βρες πόσα είναι, όπως το παράδειγμα:



$$3 \Delta \text{ και } 6 \text{ M} = 10 + 10 + 10 + 6 = 36$$



..... Δ και Μ = =



..... Δ και Μ = =

Όνομα: _____