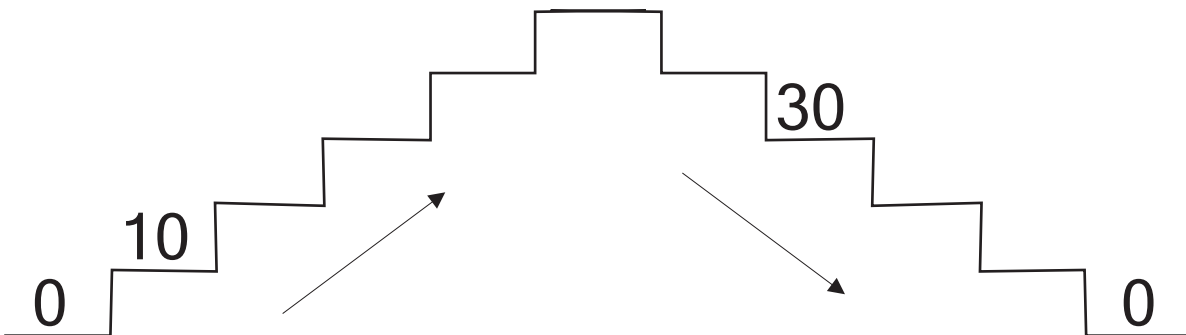


Μάθημα 25

1) Συμπλήρωσε τους αριθμούς που λείπουν:

0				4				8	
	11					16			
			23						29
30							37		
	41			44				48	

2) Ανέβα 10-10 τα σκαλάκια και μετά κατέβα:



3) Κύκλωσε τις Δεκάδες των αριθμών, όπως το παράδειγμα:


(23) 44 14 37 50 22 18 33

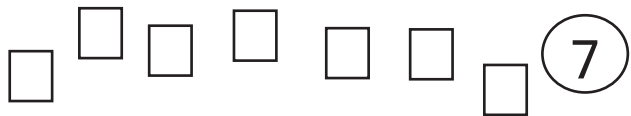
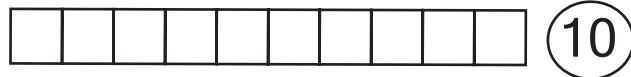
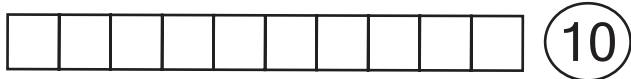
4) Γράψε τώρα τους παραπάνω αριθμούς στη σειρά, ξεκινώντας απ' το μικρότερο.

..... < < < < < < <

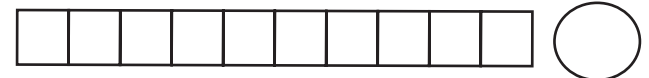
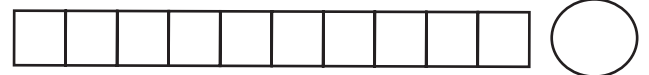
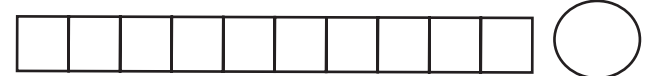
5) Παρατήρησε και βρες πόσα είναι τα κουτάκια, όπως εγώ:

ΘΥΜΗΣΟΥ! Δεν χρειάζεται να τα μετράς όλα!

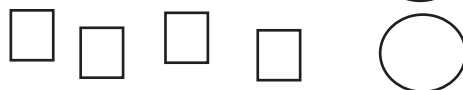
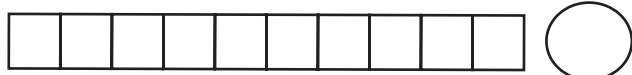
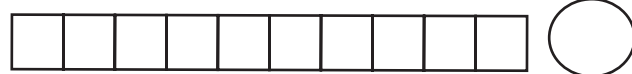
 = 10 κουτάκια



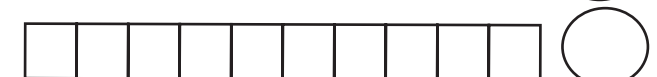
Είναι $10 + 10 + 7 = 27$



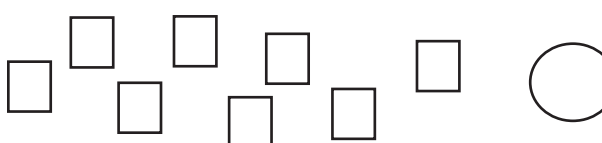

Είναι



Είναι



Είναι



Είναι

Όνομα: _____