














Write in Greek the name of the device in the picture

Βρες τα ονόματα για όλα τα παρακάτω μέρη του υπολογιστή.

	Κ _____ ³ _____ Μ _____
	Σ ⁴ _____
	Φ _____ ⁵ _____ γ _____ ⁷ _____
	Ε _____ ¹ _____ ¹² _____
	Μ _____ Κ ⁶ _____
	Ο _____
	Π ² _____ ⁸ _____
	Η _____ ⁹ _____
	Κ _____ Μ _____
	Μ _____ ¹⁰ _____
	Π _____ ¹¹ _____
	Κ _____
	Τ _____

Στη συνέχεια πέρασε στην παρακάτω πρόταση τα γράμματα που είναι σε κύκλο για να βρεις τι είναι όλα τα παραπάνω για τον υπολογιστή.

Τοποθέτησε τα γράμματα με τη σειρά που εμφανίζονται οι αριθμοί

Όλα τα παραπάνω είναι το _____ ενός υπολογιστή.

Μπορείς να τα _____ ξ _____ .