

## ΔΡΑΣΤΗΡΙΟΤΗΤΕΣ ΜΑΘΗΜΑΤΙΚΩΝ 17






Γλυκά μου αστεράκια,


Συνεχίζοντας την επανάληψή μας στα κέρματα του ευρώ θα υπολογίσουμε συνολικά πόσα χρήματα έχουμε και πόσα χρήματα χρειαζόμαστε ακόμη για να συμπληρώσουμε ένα ποσό.

Σας φιλώ γλυκά

### ΕΡΓΑΣΙΕΣ

1) Πόσα χρήματα έχουν και τα δυο παιδιά μαζί;

 <p>Η Μαρίνα</p> <p>έχει</p> 	 <p>Η Άννα</p> <p>έχει</p> 
 <p>Συνολικά έχουν</p> <p>.....</p>	

  
Η Ελένη

**έχει**

  
Ο Νικόλας

**έχει**


   

**Συνολικά έχουν**  
.....



  
Ο Νικόλας

**έχει**

  
Ο Χρήστος

**έχει**

**Συνολικά έχουν**  
.....

2) Πόσα χρήματα έχει το άλλο παιδί;

(Πρώτα σκέφτομαι πόσα χρήματα χρειάζομαι, για να συμπληρώσω τα ευρώ και μετά τα λεπτά.)



Η Μαρίνα

έχει



Η Ελένη


έχει

Συνολικά έχουν  
1 € 60λ.



Η Άννα

έχει



Η Ελένη

έχει

Συνολικά έχουν  
2 € 75λ.

  
Ο Νικόλας

έχει


  
Η Άννα

έχει

Συνολικά έχουν  
2 € 20λ.

  
Ο Χρήστος

έχει


  
Η Μαρίνα

έχει

Συνολικά έχουν  
3 € 30λ.