

ΔΡΑΣΤΗΡΙΟΤΗΤΕΣ ΜΑΘΗΜΑΤΙΚΩΝ 13

Γλυκά μου παιδάκια,

Να προσέχετε τον εαυτό σας και να περνάτε όμορφα και δημιουργικά.

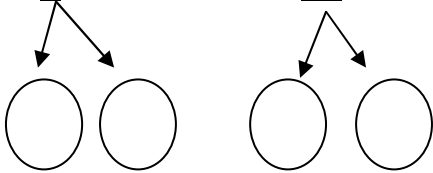
Σε αυτή την επανάληψη θα θυμηθούμε πώς βρίσκουμε **τα μισά των αριθμών** και πώς βρίσκουμε **τα διπλάσια**.

Σας φιλώ γλυκά

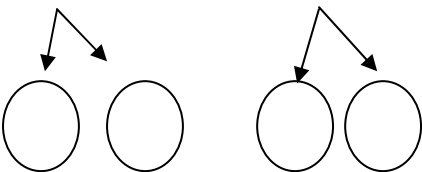
ΕΡΓΑΣΙΕΣ

1) Βρίσκω **το μισό** των παρακάτω αριθμών.

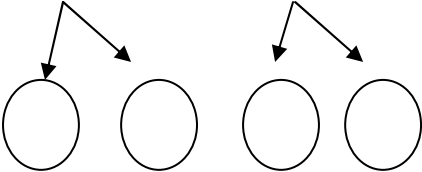
• 28 = 20 + 8 Άρα, **το μισό του 28** είναι το



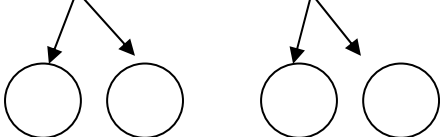
• 36 = 30 + 6 Άρα, **το μισό του 36** είναι το



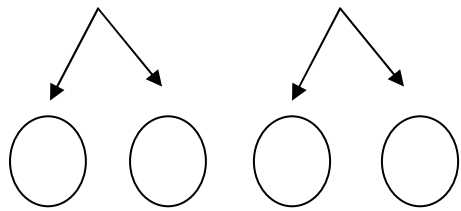
• 42 = 40 + 2 Άρα, **το μισό του 42** είναι το



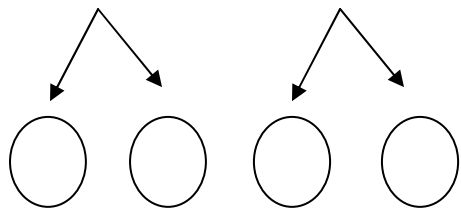
• 54 = 50 + 4 Άρα, **το μισό του 54** είναι το



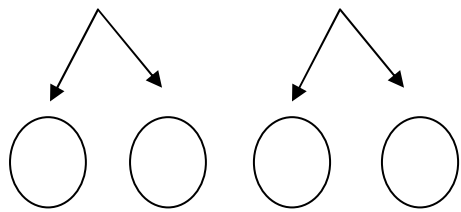
$\bullet 18 + 18 = (\dots + \dots) + (\dots + \dots) = \dots + \dots = \dots$



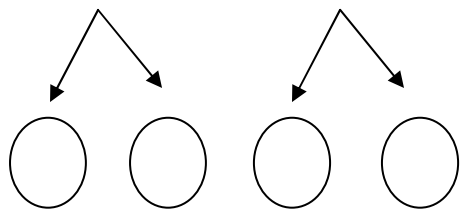
$\bullet 22 + 22 = (\dots + \dots) + (\dots + \dots) = \dots + \dots = \dots$



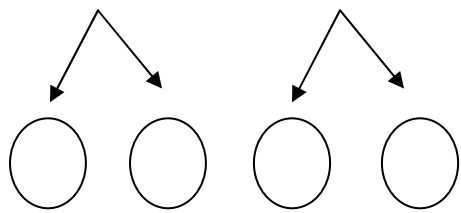
$\bullet 29 + 29 = (\dots + \dots) + (\dots + \dots) = \dots + \dots = \dots$



$\bullet 33 + 33 = (\dots + \dots) + (\dots + \dots) = \dots + \dots = \dots$



$\bullet 37 + 37 = (\dots + \dots) + (\dots + \dots) = \dots + \dots = \dots$



$$\bullet 44 + 44 = (\dots\dots + \dots\dots) + (\dots\dots + \dots\dots) = \dots\dots + \dots\dots = \dots\dots$$

$$\bullet 48 + 48 = (\dots\dots + \dots\dots) + (\dots\dots + \dots\dots) = \dots\dots + \dots\dots = \dots\dots$$

3) Λύνω τα προβλήματα.

- Ένας μανάβης έβαλε σε ένα τελάρo **17 πορτοκάλια** και σε ένα άλλο έβαλε **τα διπλάσια**. Πόσα είναι τα πορτοκάλια στο άλλο τελάρo;

Λύση

Απάντηση

.....

- Μαζί με τον αδερφό μου έχουμε στον κουμπαρά μας **27€**. Για να αγοράσουμε τα αγαπημένα μας παιχνίδια χρειαζόμαστε τα **διπλάσια χρήματα**. Πόσα χρήματα χρειαζόμαστε;

Λύση

Απάντηση

.....