

Γλυκά μου παιδάκια,

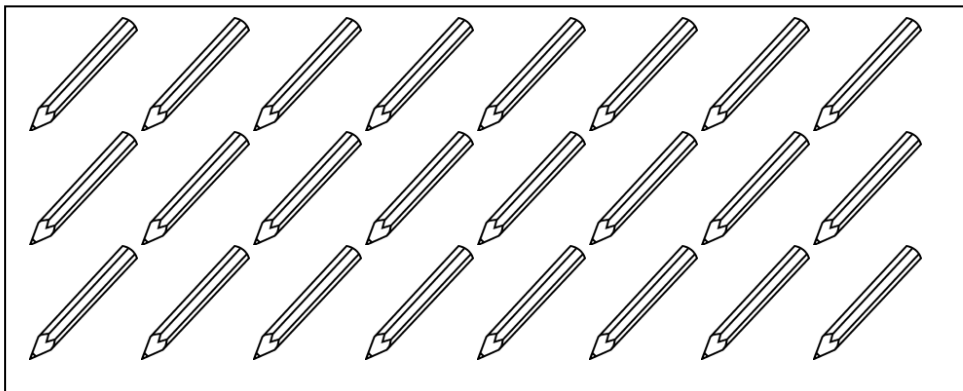
Εννοείται ότι εξακολουθείτε να μου λείπετε αρκετά. Εύχομαι να είστε όλοι και όλες καλά.

Συνεχίζοντας την επανάληψή μας στα μαθηματικά θα θυμηθούμε τις έννοιες **του μισού και του ολόκληρου**. Θα βρούμε τα μισά κάποιων αριθμών και θα εμπειδώσουμε καλύτερα αυτές τις έννοιες επιλύοντας κάποια προβλήματα.

Σας φιλώ

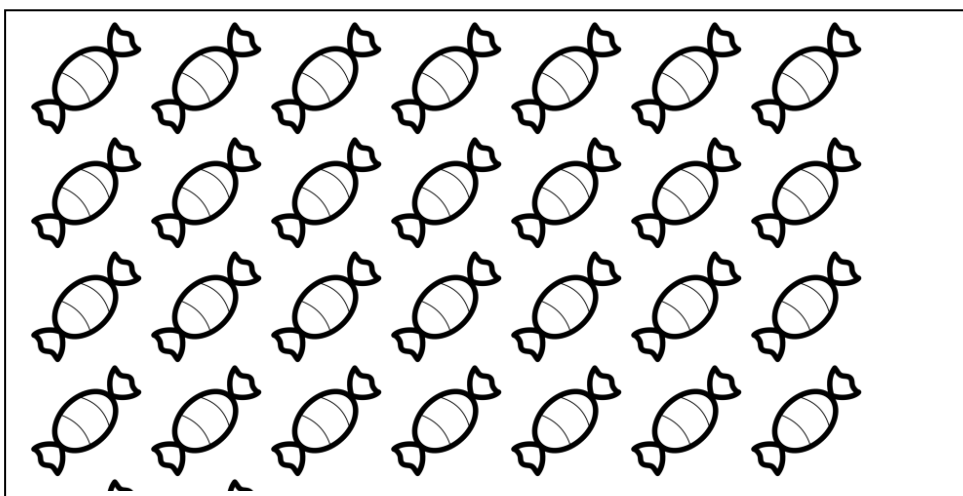
## ΕΡΓΑΣΙΕΣ

### 1) Κυκλώνω τα μισά.



Όλα είναι .....

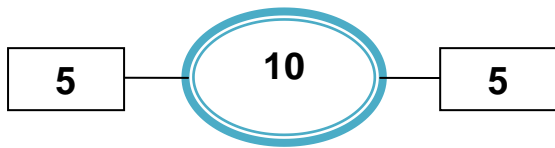
Τα μισά είναι .....



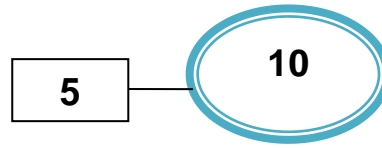
Όλες είναι .....

Οι μισές είναι .....

2) Γράφω ποιο είναι το ολόκληρο και βρίσκω το μισό των αριθμών.



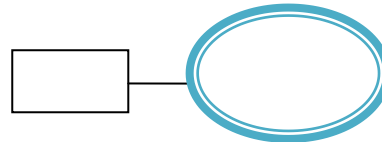
Όλο είναι **10**



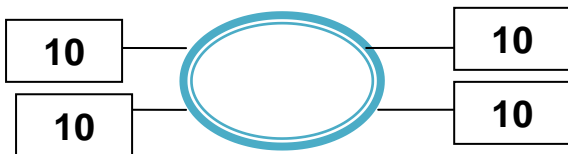
Το μισό του **10** είναι το **5**



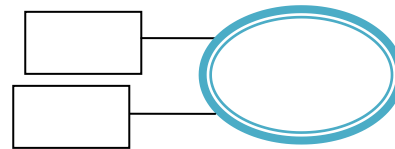
Όλο είναι .....



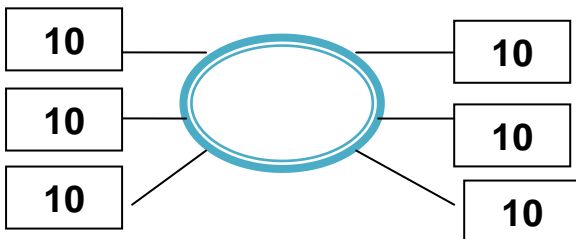
Το μισό του .... είναι το ....



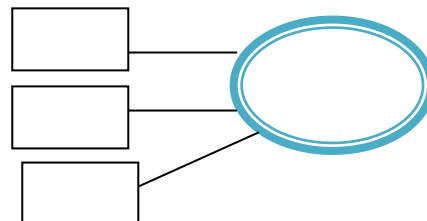
Όλο είναι .....



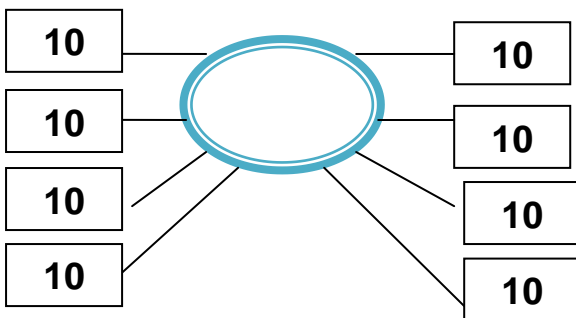
Το μισό του .... είναι το ....



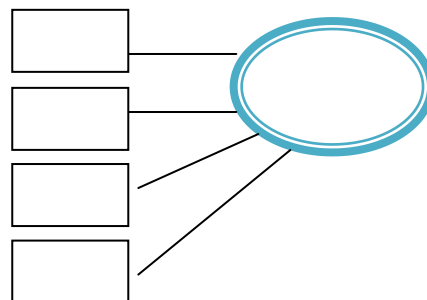
Όλο είναι .....



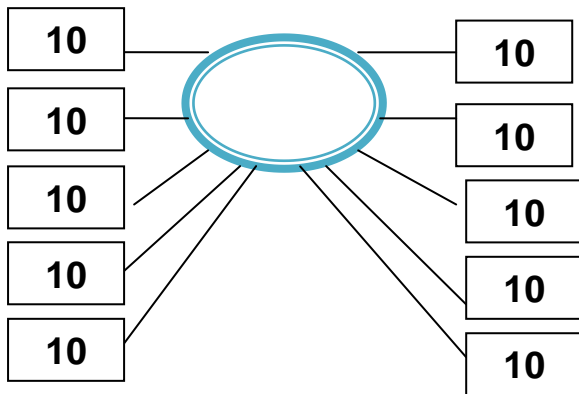
Το μισό του .... είναι το ....



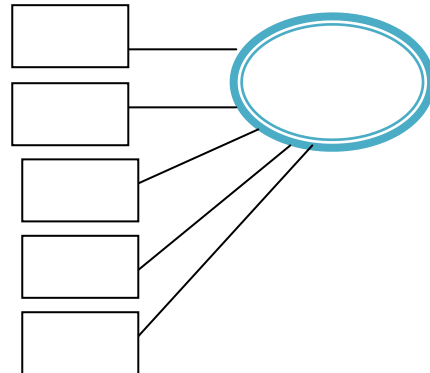
Όλο είναι .....



Το μισό του .... είναι το ....

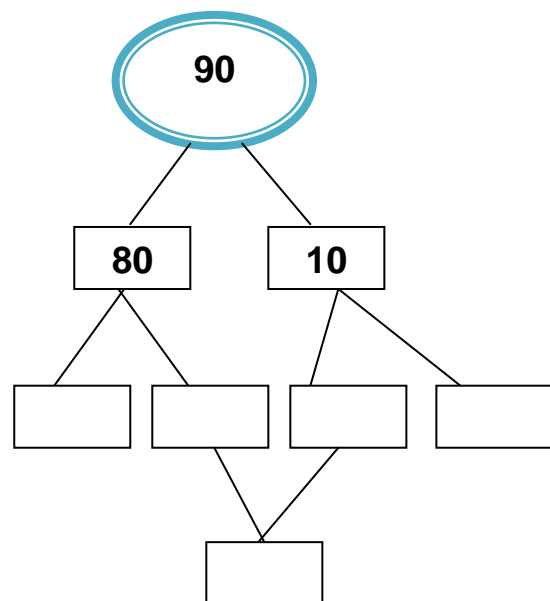
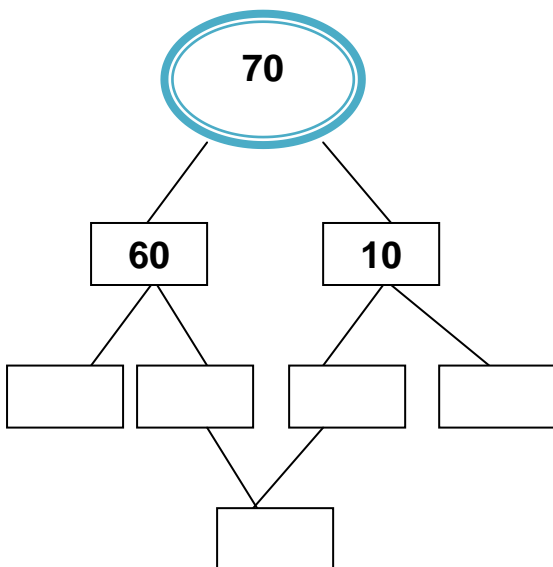
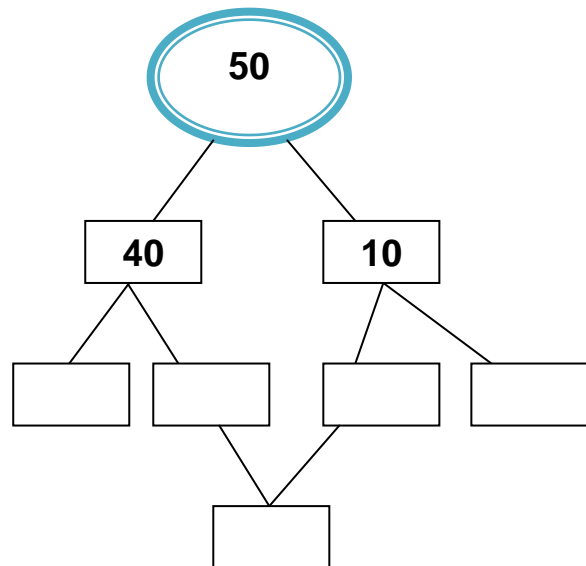
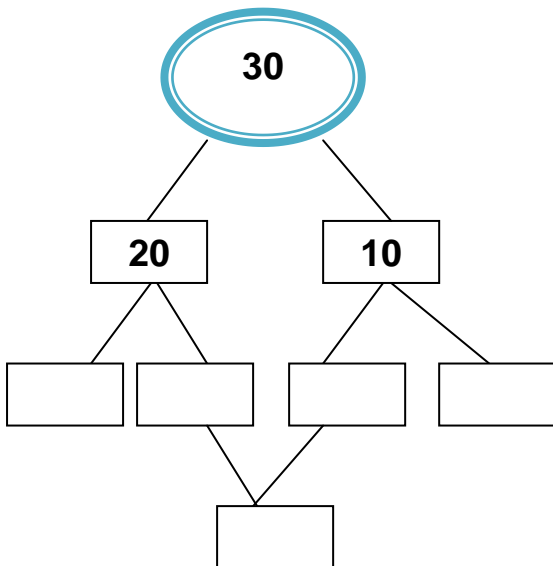


Όλο είναι .....



Το μισό του .... είναι το .....

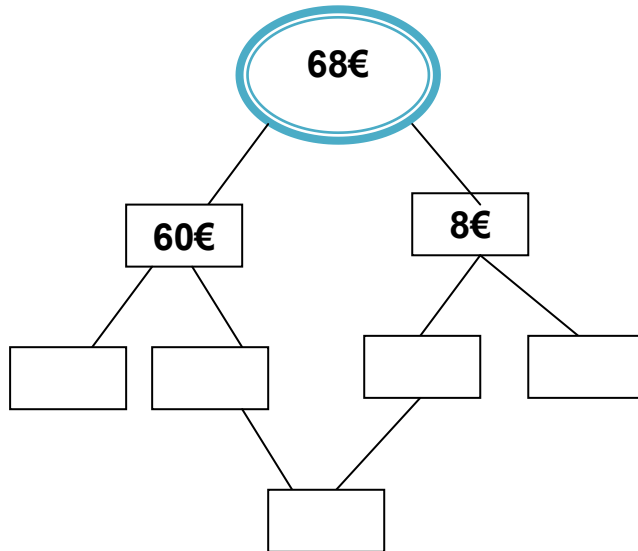
3) Βρίσκω το μισό των παρακάτω αριθμών.



4) **Λύνω τα προβλήματα.**

- Στο πορτοφόλι μου **είχα 68€**. Ξόδεψα **τα μισά χρήματα**. Πόσα χρήματα **έχω τώρα στο πορτοφόλι μου**;

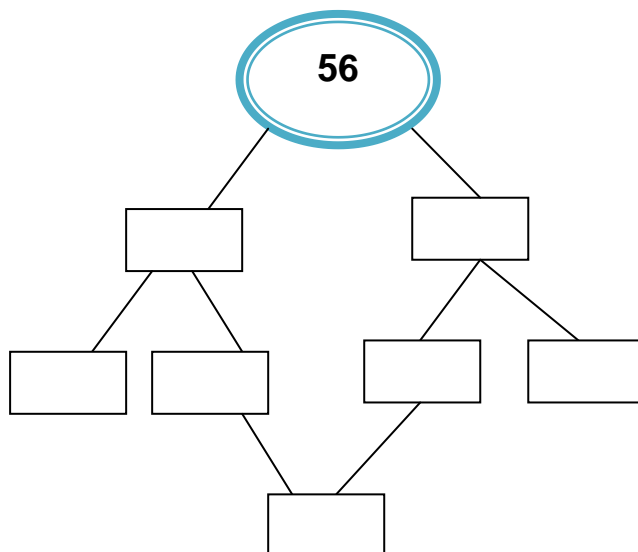
Λύση



Απάντηση

- .....
- Δανείστηκα από τη βιβλιοθήκη του σχολείου μου ένα λογοτεχνικό βιβλίο, το οποίο έχει **56 σελίδες**. Διάβασα **τις μισές σελίδες**. Πόσες σελίδες διάβασα;

Λύση

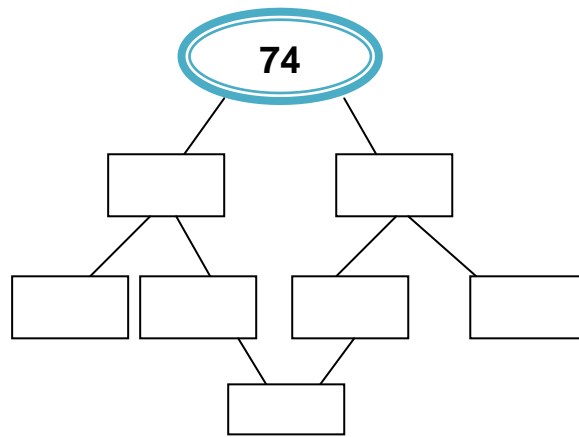


## Απάντηση

---

- Τα τουβλάκια, που έχω μαζί με τον αδερφό μου, είναι **74**. Πήρα **τα μισά τουβλάκια**, για να παίξω. Πόσα είναι τα τουβλάκια που πήρα;

### Λύση



### Απάντηση

---

- Οι **μισοί μαθητές** των τμημάτων  $B'_1$  και  $B'_2$  είναι **21**. Πόσοι είναι **όλοι** οι μαθητές και **των δύο τμημάτων**;

### Λύση

## Απάντηση

---

- Ένας ανθοπώλης πούλησε **36 τριαντάφυλλα**. Τα **μισά τριαντάφυλλα** από αυτά που είχε στο κατάστημά του. Πόσα ήταν **όλα** τα τριαντάφυλλα που είχε;

### Λύση

## Απάντηση

---