

## ΔΡΑΣΤΗΡΙΟΤΗΤΕΣ ΜΑΘΗΜΑΤΙΚΩΝ 10

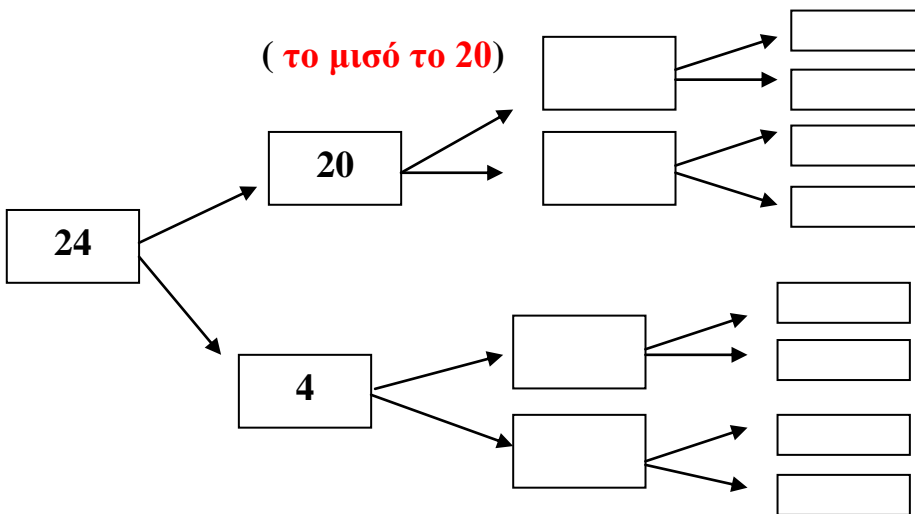
Αγαπημένα μου παιδιά,

Χαίρομαι να μαθαίνω ότι είστε καλά. Θα συνεχίσουμε την επανάληψή μας και αυτή τη φορά θα θυμηθούμε **πώς αναλύουμε αριθμούς μέχρι το 100.**

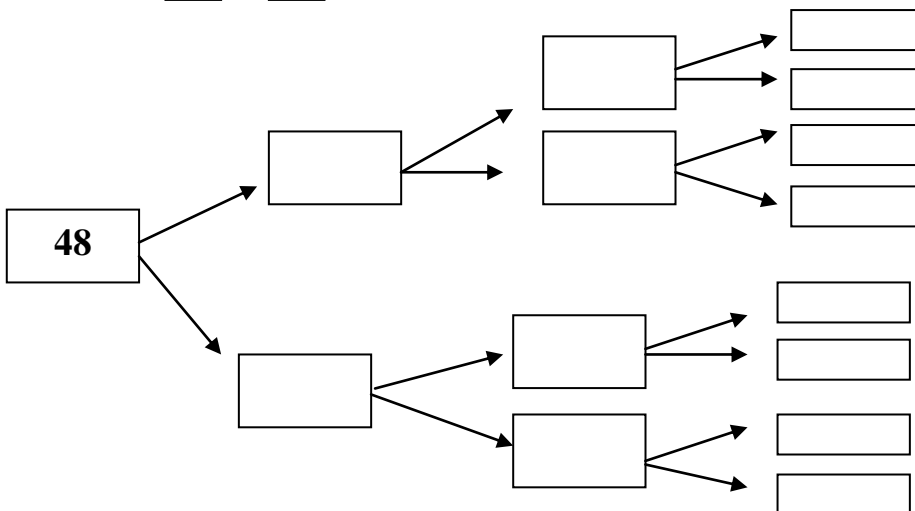
Σας αγαπώ πολύ και σας σκέφτομαι

### ΕΡΓΑΣΙΕΣ

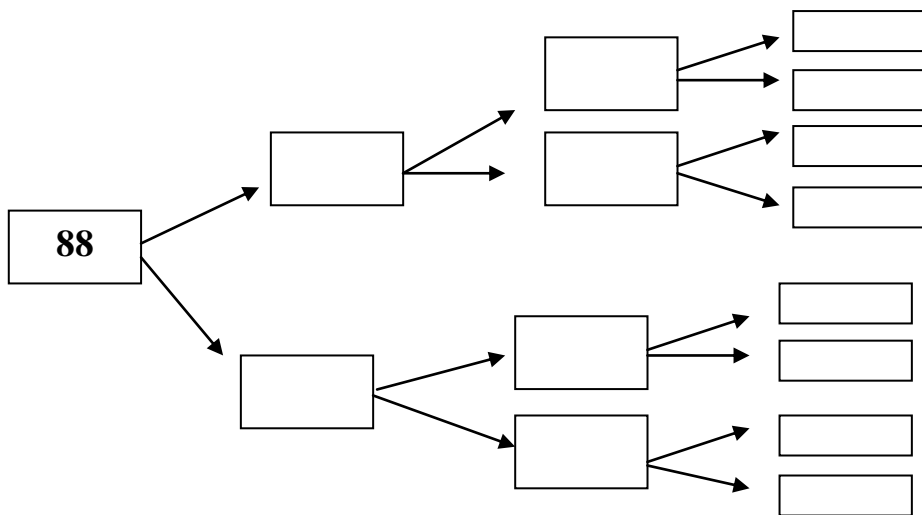
1) Αναλύω τους παρακάτω αριθμούς. **(και εδώ τα μισά θα γράψεις)**



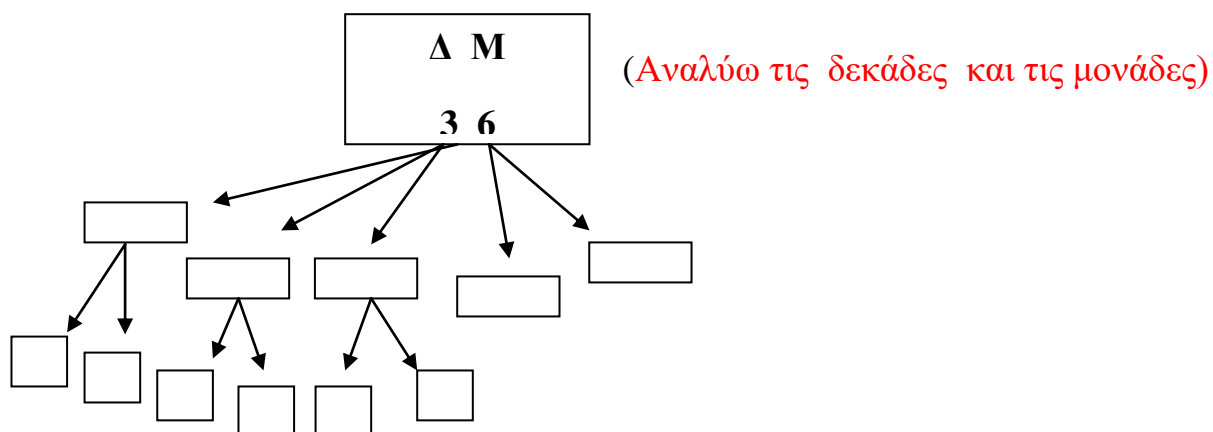
$$24 = \square + \square \text{ ή } 24 = (\dots\dots \times \dots\dots) + (\dots\dots \times \dots\dots)$$



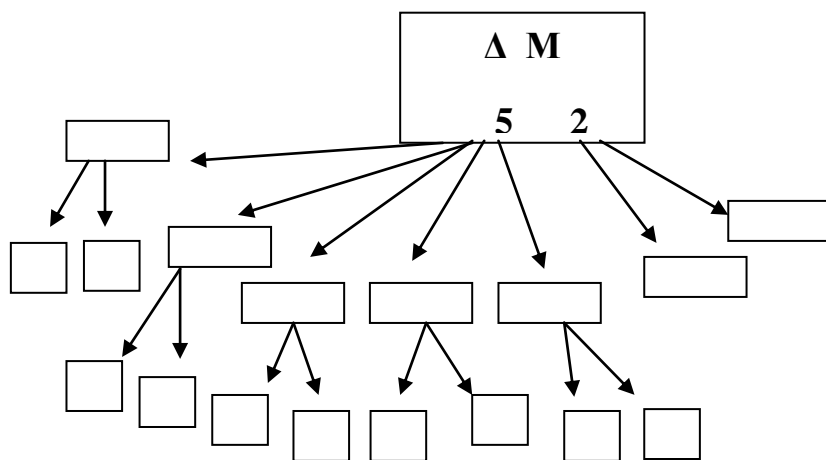
$$48 = \square + \square \text{ ή } 48 = (\dots\dots \times \dots\dots) + (\dots\dots \times \dots\dots)$$



$$88 = \square + \square \text{ ή } 88 = (\dots\dots X \dots\dots) + (\dots\dots X \dots\dots)$$



$$36 = \square + \square + \square + \square + \square \text{ ή } 36 = (\dots\dots X \dots\dots) + (\dots\dots X \dots\dots)$$



$$52 = \square + \square + \square + \square + \square + \square + \square \text{ ή } 52 = (\dots\dots X \dots\dots) + (\dots\dots X \dots\dots)$$