


Αρίθμηση τις Καρυάτιδες από το 1-10.








--	--	--	--	--	--	--	--	--	--



Κόβω και βάζω στη σειρά τις Καρυάτιδες, από το μικρό στο μεγαλύτερο ή/και το ανάποδο.



Αριθμήσε τους ιωνικούς κίονες από το 1-20.



Ένωσε με μια γραμμή τα κομμάτια της εικόνας που βλέπεις και αν θες ζωγράφισε τη.

